

BSF 17 and 18 June 2023

Participant ID	
Participant Name	
Test Center Name	
Test Date	18/06/2023
Test Time	12:30 PM - 2:10 PM
Subject	Head Constable (Ministerial)

Section : English Language

Q.1 Select the most appropriate option that can replace the underlined word in the given sentence.

After a long discussion, Raj get permission from his parents to study Arts.

- Ans 1. got the permission
 2. getting permission
 3. got a permission
 4. get a permission

Question ID : 630680249552
Option 1 ID : 630680968284
Option 2 ID : 630680968285
Option 3 ID : 630680968283
Option 4 ID : 630680968286
Status : Not Answered
Chosen Option : -

Q.2 In the following passage, some words have been deleted. Read the passage carefully and select the most appropriate option to fill in each blank.

The Earth cannot (1)_____ to the (2)_____ change in its ecosystem caused due to global warming. This (3)_____ of interest between the environment and (4)_____ is causing a lot of damage to the earth.

- Ans 1. 1. adopt, 2. plodding, 3. conflict, 4. capitalism
 2. 1. adapt, 2. fast paced, 3. conflict, 4. capitalism
 3. 1. adapt, 2. jogging, 3. conflict, 4. communism
 4. 1. adopt, 2. plodding, 3. accord, 4. industrialism

Question ID : 630680249556
Option 1 ID : 630680968301
Option 2 ID : 630680968300
Option 3 ID : 630680968302
Option 4 ID : 630680968299
Status : Not Answered
Chosen Option : -

Q.3 In the following passage, some words have been deleted. Read the passage carefully and select the most appropriate option to fill in each blank.

The (1)_____ of nature calms our heart. The stillness and movement in nature both have a (2)_____ effect. The (3)_____ creativity of nature is an art. It is (4)_____ to experience solitude with nature.

- Ans 1. 1. serenity, 2. hypnotising, 3. unfolding, 4. alluring
 2. 1. tumult, 2. sleazy, 3. extending, 4. appealing
 3. 1. endurance, 2. hypnotising, 3. unfolding, 4. imploring
 4. 1. tumult, 2. fascinating, 3. quiescence, 4. alluring

Question ID : 630680249555
Option 1 ID : 630680968297
Option 2 ID : 630680968295
Option 3 ID : 630680968298
Option 4 ID : 630680968296
Status : Not Answered
Chosen Option : -

Q.4 Select the most appropriate meaning of the underlined idiom.

On the issue of higher education, Reena put her foot down.

- Ans 1. To be calm and stop something from happening
 2. To be confused and stop something from happening
 3. To use authority to stop something from happening
 4. To be irritated and stop something from happening

Question ID : 630680249548
Option 1 ID : 630680968267
Option 2 ID : 630680968270
Option 3 ID : 630680968269
Option 4 ID : 630680968268
Status : Not Answered
Chosen Option : -

Q.5 Select the most appropriate synonym of the underlined word as used in the sentence

.The government's policies have alienated a large section of the society.

- Ans 1. Separated
 2. Deactivated
 3. Validated
 4. Divorce

Question ID : 630680249542
Option 1 ID : 630680968246
Option 2 ID : 630680968243
Option 3 ID : 630680968245
Option 4 ID : 630680968244
Status : Not Answered
Chosen Option : -

Q.6 Select the sentence that has NO spelling error.

- Ans 1. They paid obeisance to the king.
 2. They paid obiesance to the king.
 3. They paid obeisanse to the king.
 4. They paid obesense to the king.

Question ID : 630680249546
Option 1 ID : 630680968259
Option 2 ID : 630680968260
Option 3 ID : 630680968261
Option 4 ID : 630680968262
Status : Not Answered
Chosen Option : -

Q.7 Sentences of a paragraph are given below in jumbled order. Arrange the sentences in the correct order to form a meaningful and coherent paragraph.

1. The light moved through me and embraced her as she lay there.
2. A brilliant light filled my virtual meditation room.
3. I became a funnel channelling the energy from them to her.
4. I could feel all the prayers that were being said for Dorthy at that moment, as if a thousand hands were holding mine as we formed a healing circle around her.

- Ans 1. 1, 2, 3, 4
 2. 2, 4, 3, 1
 3. 3, 1, 4, 2
 4. 4, 3, 1, 2

Question ID : 630680249554
Option 1 ID : 630680968291
Option 2 ID : 630680968294
Option 3 ID : 630680968292
Option 4 ID : 630680968293
Status : Not Answered
Chosen Option : -

Q.8 Select the most appropriate meaning of the proverb.

Bury your head in the sand.

- Ans 1. Refuse to confront or acknowledge a problem.
 2. Refuse to forget about the past.
 3. Be ashamed of something.
 4. To work hard to reach somewhere.

Question ID : 630680249550
Option 1 ID : 630680968275
Option 2 ID : 630680968276
Option 3 ID : 630680968277
Option 4 ID : 630680968278
Status : Not Answered
Chosen Option : -

Q.9 Select the most appropriate option that can replace the underlined word in the given sentence.

The audience listened with rapturously as the school orchestra played.

- Ans 1. rapture
 2. raptures
 3. raptured
 4. rapturing

Question ID : 630680249551
Option 1 ID : 630680968282
Option 2 ID : 630680968280
Option 3 ID : 630680968281
Option 4 ID : 630680968279
Status : Not Answered
Chosen Option : -

Q.10 Sentences of a paragraph are given below in jumbled order. Arrange the sentences in the correct order to form a meaningful and coherent paragraph.

1. I knew I would never spend the money, or listen to the radio, and the electric train would never trundle down its track in my room.
2. I don't know why I even bothered, since I just gave them a joyless glance and pitched them to the corner of the room.
3. The pile was growing there: a transistor radio, a Polaroid camera, an elaborate electric train set and several sealed envelopes containing cash.
4. Sitting in the middle of the room next morning, I ripped open box after box of presents.

- Ans 1. 4, 2, 3, 1
 2. 3, 2, 1, 4
 3. 2, 3, 1, 4
 4. 1, 3, 2, 4

Question ID : 630680249553
Option 1 ID : 630680968289
Option 2 ID : 630680968290
Option 3 ID : 630680968288
Option 4 ID : 630680968287
Status : Not Answered
Chosen Option : -

Q.11 Select the sentence that has NO spelling error.

- Ans 1. She rapidly rose in the political hiarchy.
 2. She rapidly rose in the political hiarechy.
 3. She rapidly rose in the political heirarchy.
 4. She rapidly rose in the political hierarchy.

Question ID : 630680249545
Option 1 ID : 630680968256
Option 2 ID : 630680968258
Option 3 ID : 630680968255
Option 4 ID : 630680968257
Status : Not Answered
Chosen Option : -

Q.12 Select the sentence that has NO spelling error.

- Ans 1. The Major General leading the mutinears refused to give up control of the base even as the siege ended.
2. The Major General leading the mutineers refused to give up control of the base even as the siege ended.
3. The Major General leading the mutiniers refused to give up control of the base even as the siege ended.
4. The Major General leading the mutineers refused to give up control of the base even as the siege ended.

Question ID : 630680249547
Option 1 ID : 630680968266
Option 2 ID : 630680968265
Option 3 ID : 630680968264
Option 4 ID : 630680968263
Status : Not Answered
Chosen Option : -

Q.13 In the following passage, some words have been deleted. Read the passage carefully and select the most appropriate option to fill in each blank.

Everyone (1)___ with homework sometimes. So, it could be (2)___ if you have big homework projects. Everyone has something they struggle with. You could be great in Math and Science but struggle (3)___English or maybe you won't even have a problem with doing the homework, your problem could be (4)_____.

- Ans 1. 1. attempts, 2. worst, 3. over, 4. idling
2. 1. clashes, 2. bad, 3. between, 4. delaying
3. 1. struggles, 2. worse, 3. through, 4. procrastination
4. 1. battles, 2. worse, 3. among, 4. dilly-dallying

Question ID : 630680249557
Option 1 ID : 630680968303
Option 2 ID : 630680968305
Option 3 ID : 630680968306
Option 4 ID : 630680968304
Status : Not Answered
Chosen Option : -

Q.14 Select the most appropriate ANTONYM of the given word.

Beseech

- Ans 1. Entreat
2. Adjure
3. Petition
4. Command

Question ID : 630680249544
Option 1 ID : 630680968254
Option 2 ID : 630680968253
Option 3 ID : 630680968251
Option 4 ID : 630680968252
Status : Not Answered
Chosen Option : -

Q.15 Select the most appropriate synonym of the underlined word as used in the sentence.

No person is allowed to transgress beyond the line of control.

- Ans
- 1. Offend
 - 2. Seize
 - 3. Trespass
 - 4. Exempt

Question ID : 630680249543
Option 1 ID : 630680968248
Option 2 ID : 630680968247
Option 3 ID : 630680968249
Option 4 ID : 630680968250
Status : Not Answered
Chosen Option : -

Q.16 Select the most appropriate meaning of the proverb.

The forbidden fruit is the sweetest.

- Ans
- 1. To be drawn to things that one is prohibited from doing or having.
 - 2. To crave for the food which is bad for health.
 - 3. To be drawn to do things which are of no use.
 - 4. To choose something contrary to the choice of others.

Question ID : 630680249549
Option 1 ID : 630680968274
Option 2 ID : 630680968271
Option 3 ID : 630680968272
Option 4 ID : 630680968273
Status : Not Answered
Chosen Option : -

Comprehension:

Read the given passage and answer the questions that follow.

1. The idea that coffee is bad for heart pops up periodically. It was found that regularly drinking very strong coffee could sharply increase cholesterol levels. Researchers even isolated fatlike chemicals, cafestol and kahweol, responsible for the rise.
2. It turned out that the European brewing method – boiling water sits on the coffee grounds for several minutes before straining – produces high concentrations of cafestol and kahweol. By contrast, the filter and percolation methods remove all but a trace of these chemicals. Moreover, the studies involved large amounts of coffee – five to six cups a day. Moderate coffee drinkers down only two cups.
3. Research has also shown that regular, moderate coffee drinking does not dangerously raise blood pressure. And studies have failed to substantiate fears that coffee might trigger abnormal heart rhythms (arrhythmias) in healthy people.
4. "For heart disease, I think the issue is closed," says Meir Stampfer, an epidemiologist at Harvard who has studied many aspects of coffee and health. "Coffee drinking at reasonable levels is unrelated to heart risk."
5. Evidence suggests that coffee may help fend off Parkinson's disease. A 30-year study of 8000 Japanese-American men found that avid coffee drinkers had one-fifth the risk of those who didn't drink the brew.
6. Scientists at Massachusetts General Hospital, USA, found indirect evidence that Caffeine-the habit forming stimulant in coffee – may actually combat Parkinson's disease. The caffeine seemed to protect mice brain cells from depletion of the nerve chemical dopamine – the problem underlying Parkinson's disease in humans. However, these are preliminary findings; human studies have- not consistently supported caffeine's protective role.
7. The studies on coffee and cancer have focussed on three organs – and are reassuring. You may remember a brief coffee scare in the early 1980s when a single study linked coffee with pancreatic cancer. A false alarm: Many studies since then have shown that the association is either extremely weak or non-existent.
8. If there's a connection between coffee and bladder cancer, it possibly applies just to coffee junkies. A reanalysis of ten European studies found an increased risk only among people who drank ten or more cups a day. And studies show that coffee seems to have no adverse influence on the risk of colon cancer.
9. Caffeine is such a powerful stimulant that the International Olympic Committee and the National Collegiate Athletic Association set limits on how much can remain in the blood during competition. In addition to boosting physical endurance, caffeine increases alertness and improves mood. The buzz may come at a price, though. People who drink more than they're used to may become restless and unable to sleep. Moreover, it's possible to become physically dependent on caffeine in days.
10. The question now arises: how much to drink? Those with heartburn and anxiety may want to see if cutting back coffee improves their condition. For most people, however, there's virtually no risk in consuming up to three normal cups a day. Harvard's Stampfer tries to keep his coffee drinking irregular enough to avoid habituation: "That way, I can get a buzz when I feel like it."

SubQuestion No : 17

Q.17 What do various studies NOT reveal about moderate coffee drinkers?

- Ans
- 1. A connection between coffee and bladder cancer, probably applies just to coffee junkies.
 - 2. Caffeine helps to boost physical stamina and increases alertness and improves mood.
 - 3. Evidence suggests that coffee may help deter Parkinson's disease.
 - 4. The studies on coffee and cancer have focussed on three organs – and are rebarbative.

Question ID : 630680249560

Option 1 ID : 630680968312

Option 2 ID : 630680968311

Option 3 ID : 630680968313

Option 4 ID : 630680968314

Status : Not Answered

Chosen Option : –

Comprehension:

Read the given passage and answer the questions that follow.

1. The idea that coffee is bad for heart pops up periodically. It was found that regularly drinking very strong coffee could sharply increase cholesterol levels. Researchers even isolated fatlike chemicals, cafestol and kahweol, responsible for the rise.
2. It turned out that the European brewing method – boiling water sits on the coffee grounds for several minutes before straining – produces high concentrations of cafestol and kahweol. By contrast, the filter and percolation methods remove all but a trace of these chemicals. Moreover, the studies involved large amounts of coffee – five to six cups a day. Moderate coffee drinkers down only two cups.
3. Research has also shown that regular, moderate coffee drinking does not dangerously raise blood pressure. And studies have failed to substantiate fears that coffee might trigger abnormal heart rhythms (arrhythmias) in healthy people.
4. "For heart disease, I think the issue is closed," says Meir Stampfer, an epidemiologist at Harvard who has studied many aspects of coffee and health. "Coffee drinking at reasonable levels is unrelated to heart risk."
5. Evidence suggests that coffee may help fend off Parkinson's disease. A 30-year study of 8000 Japanese-American men found that avid coffee drinkers had one-fifth the risk of those who didn't drink the brew.
6. Scientists at Massachusetts General Hospital, USA, found indirect evidence that Caffeine-the habit forming stimulant in coffee – may actually combat Parkinson's disease. The caffeine seemed to protect mice brain cells from depletion of the nerve chemical dopamine – the problem underlying Parkinson's disease in humans. However, these are preliminary findings; human studies have- not consistently supported caffeine's protective role.
7. The studies on coffee and cancer have focussed on three organs – and are reassuring. You may remember a brief coffee scare in the early 1980s when a single study linked coffee with pancreatic cancer. A false alarm: Many studies since then have shown that the association is either extremely weak or non-existent.
8. If there's a connection between coffee and bladder cancer, it possibly applies just to coffee junkies. A reanalysis of ten European studies found an increased risk only among people who drank ten or more cups a day. And studies show that coffee seems to have no adverse influence on the risk of colon cancer.
9. Caffeine is such a powerful stimulant that the International Olympic Committee and the National Collegiate Athletic Association set limits on how much can remain in the blood during competition. In addition to boosting physical endurance, caffeine increases alertness and improves mood. The buzz may come at a price, though. People who drink more than they're used to may become restless and unable to sleep. Moreover, it's possible to become physically dependent on caffeine in days.
10. The question now arises: how much to drink? Those with heartburn and anxiety may want to see if cutting back coffee improves their condition. For most people, however, there's virtually no risk in consuming up to three normal cups a day. Harvard's Stampfer tries to keep his coffee drinking irregular enough to avoid habituation: "That way, I can get a buzz when I feel like it."

SubQuestion No : 18

Q.18 Which of the following can be an appropriate title for the passage?

- Ans
- 1. Disadvantages of Drinking Coffee
 - 2. Ill Effects of Consuming Caffeine
 - 3. Advantages of not Drinking Coffee
 - 4. Coffee – Healthy Body And Mind

Question ID : 630680249559

Option 1 ID : 630680968307

Option 2 ID : 630680968308

Option 3 ID : 630680968310

Option 4 ID : 630680968309

Status : Not Answered

Chosen Option : –

Comprehension:

Read the given passage and answer the questions that follow.

1. The idea that coffee is bad for heart pops up periodically. It was found that regularly drinking very strong coffee could sharply increase cholesterol levels. Researchers even isolated fatlike chemicals, cafestol and kahweol, responsible for the rise.
2. It turned out that the European brewing method – boiling water sits on the coffee grounds for several minutes before straining – produces high concentrations of cafestol and kahweol. By contrast, the filter and percolation methods remove all but a trace of these chemicals. Moreover, the studies involved large amounts of coffee – five to six cups a day. Moderate coffee drinkers down only two cups.
3. Research has also shown that regular, moderate coffee drinking does not dangerously raise blood pressure. And studies have failed to substantiate fears that coffee might trigger abnormal heart rhythms (arrhythmias) in healthy people.
4. "For heart disease, I think the issue is closed," says Meir Stampfer, an epidemiologist at Harvard who has studied many aspects of coffee and health. "Coffee drinking at reasonable levels is unrelated to heart risk."
5. Evidence suggests that coffee may help fend off Parkinson's disease. A 30-year study of 8000 Japanese-American men found that avid coffee drinkers had one-fifth the risk of those who didn't drink the brew.
6. Scientists at Massachusetts General Hospital, USA, found indirect evidence that Caffeine-the habit forming stimulant in coffee – may actually combat Parkinson's disease. The caffeine seemed to protect mice brain cells from depletion of the nerve chemical dopamine – the problem underlying Parkinson's disease in humans. However, these are preliminary findings; human studies have- not consistently supported caffeine's protective role.
7. The studies on coffee and cancer have focussed on three organs – and are reassuring. You may remember a brief coffee scare in the early 1980s when a single study linked coffee with pancreatic cancer. A false alarm: Many studies since then have shown that the association is either extremely weak or non-existent.
8. If there's a connection between coffee and bladder cancer, it possibly applies just to coffee junkies. A reanalysis of ten European studies found an increased risk only among people who drank ten or more cups a day. And studies show that coffee seems to have no adverse influence on the risk of colon cancer.
9. Caffeine is such a powerful stimulant that the International Olympic Committee and the National Collegiate Athletic Association set limits on how much can remain in the blood during competition. In addition to boosting physical endurance, caffeine increases alertness and improves mood. The buzz may come at a price, though. People who drink more than they're used to may become restless and unable to sleep. Moreover, it's possible to become physically dependent on caffeine in days.
10. The question now arises: how much to drink? Those with heartburn and anxiety may want to see if cutting back coffee improves their condition. For most people, however, there's virtually no risk in consuming up to three normal cups a day. Harvard's Stampfer tries to keep his coffee drinking irregular enough to avoid habituation: "That way, I can get a buzz when I feel like it."

SubQuestion No : 19

Q.19 Select the most appropriate ANTONYM of the underlined word as used in the passage.

Caffeine is such a powerful stimulant that the International Olympic Committee and the National Collegiate Athletic Association set limits on how much can remain in the blood during competition.

- Ans
- 1. Stimulus
 - 2. Tonic
 - 3. Energizer
 - 4. Tranquilizer

Question ID : 630680249561

Option 1 ID : 630680968318

Option 2 ID : 630680968315

Option 3 ID : 630680968316

Option 4 ID : 630680968317

Status : Not Answered

Chosen Option : –

Comprehension:

Read the given passage and answer the questions that follow.

1. The idea that coffee is bad for heart pops up periodically. It was found that regularly drinking very strong coffee could sharply increase cholesterol levels. Researchers even isolated fatlike chemicals, cafestol and kahweol, responsible for the rise.
2. It turned out that the European brewing method – boiling water sits on the coffee grounds for several minutes before straining – produces high concentrations of cafestol and kahweol. By contrast, the filter and percolation methods remove all but a trace of these chemicals. Moreover, the studies involved large amounts of coffee – five to six cups a day. Moderate coffee drinkers down only two cups.
3. Research has also shown that regular, moderate coffee drinking does not dangerously raise blood pressure. And studies have failed to substantiate fears that coffee might trigger abnormal heart rhythms (arrhythmias) in healthy people.
4. "For heart disease, I think the issue is closed," says Meir Stampfer, an epidemiologist at Harvard who has studied many aspects of coffee and health. "Coffee drinking at reasonable levels is unrelated to heart risk."
5. Evidence suggests that coffee may help fend off Parkinson's disease. A 30-year study of 8000 Japanese-American men found that avid coffee drinkers had one-fifth the risk of those who didn't drink the brew.
6. Scientists at Massachusetts General Hospital, USA, found indirect evidence that Caffeine-the habit forming stimulant in coffee – may actually combat Parkinson's disease. The caffeine seemed to protect mice brain cells from depletion of the nerve chemical dopamine – the problem underlying Parkinson's disease in humans. However, these are preliminary findings; human studies have- not consistently supported caffeine's protective role.
7. The studies on coffee and cancer have focussed on three organs – and are reassuring. You may remember a brief coffee scare in the early 1980s when a single study linked coffee with pancreatic cancer. A false alarm: Many studies since then have shown that the association is either extremely weak or non-existent.
8. If there's a connection between coffee and bladder cancer, it possibly applies just to coffee junkies. A reanalysis of ten European studies found an increased risk only among people who drank ten or more cups a day. And studies show that coffee seems to have no adverse influence on the risk of colon cancer.
9. Caffeine is such a powerful stimulant that the International Olympic Committee and the National Collegiate Athletic Association set limits on how much can remain in the blood during competition. In addition to boosting physical endurance, caffeine increases alertness and improves mood. The buzz may come at a price, though. People who drink more than they're used to may become restless and unable to sleep. Moreover, it's possible to become physically dependent on caffeine in days.
10. The question now arises: how much to drink? Those with heartburn and anxiety may want to see if cutting back coffee improves their condition. For most people, however, there's virtually no risk in consuming up to three normal cups a day. Harvard's Stampfer tries to keep his coffee drinking irregular enough to avoid habituation: "That way, I can get a buzz when I feel like it."

SubQuestion No : 20

Q.20 Identify the tone of the passage.

- Ans 1. Laudatory
 2. Informative
 3. Humanistic
 4. Speculative

Question ID : 630680249562

Option 1 ID : 630680968321

Option 2 ID : 630680968322

Option 3 ID : 630680968319

Option 4 ID : 630680968320

Status : Not Answered

Chosen Option : –

Q.1 निम्नलिखित में से किस सामासिक शब्द में 'कर्मधारय समास' है? चयन कीजिए-

- Ans 1. मयूरवाहन
 2. रामायण
 3. वसुंधरा
 4. शीतोष्ण

Question ID : 630680249415
Option 1 ID : 630680967742
Option 2 ID : 630680967739
Option 3 ID : 630680967741
Option 4 ID : 630680967740
Status : Answered
Chosen Option : 1

Q.2 निम्नलिखित में से कौन सा विकल्प 'द्वंद्व समास' का विग्रह है?

- Ans 1. एकदंत- एक है दन्त जिसके वह
 2. श्वेताम्बर - श्वेत है जो अम्बर
 3. तिरसठ- तीन और साठ
 4. लोकसभा-लोक की सभा

Question ID : 630680249416
Option 1 ID : 630680967743
Option 2 ID : 630680967746
Option 3 ID : 630680967744
Option 4 ID : 630680967745
Status : Answered
Chosen Option : 3

Q.3 निम्नलिखित में से कौन सा वाक्य 'अपादान कारक' का उदाहरण है? उचित विकल्प का चयन कीजिये-

- Ans 1. मैंने इस कलम से पूरी कहानी लिख डाली
 2. वृद्धों को मत सताओ
 3. छात्रों का कल्याण हो
 4. बच्चे चूहों से डरते हैं

Question ID : 630680249411
Option 1 ID : 630680967725
Option 2 ID : 630680967726
Option 3 ID : 630680967723
Option 4 ID : 630680967724
Status : Answered
Chosen Option : 4

Q.4 निम्नलिखित शब्द के लिए उचित वाक्यांश का चयन कीजिए-

'असाध्य'

- Ans
- 1. जो साधक न हो
 - 2. किसी कार्य को बार-बार करना
 - 3. जिसे साधा न जा सके
 - 4. जिसका अनुभव किया जा सके

Question ID : 630680249408

Option 1 ID : 630680967712

Option 2 ID : 630680967714

Option 3 ID : 630680967711

Option 4 ID : 630680967713

Status : Answered

Chosen Option : 3

Q.5 निम्नलिखित में से किस मुहावरे का अर्थ 'सीधी बात को घुमा-फिरा कर कहना' है? सही विकल्प का चयन कीजिए-

- Ans
- 1. द्रोपदी की चीर होना
 - 2. द्राविड़ प्राणायाम करना
 - 3. दौरी में पैर डालना
 - 4. दो-दो चोंचें होना

Question ID : 630680249410

Option 1 ID : 630680967722

Option 2 ID : 630680967721

Option 3 ID : 630680967719

Option 4 ID : 630680967720

Status : Answered

Chosen Option : 1

Q.6 निम्नलिखित वाक्यांश के लिए उचित शब्द का चयन कीजिए-
'जो किए गए उपकारों को नहीं मानता हो'

- Ans
- 1. कृतज्ञ
 - 2. परार्थी
 - 3. कृतघ्न
 - 4. पतित

Question ID : 630680249409

Option 1 ID : 630680967715

Option 2 ID : 630680967718

Option 3 ID : 630680967716

Option 4 ID : 630680967717

Status : Answered

Chosen Option : 3

Q.7 निम्नलिखित में से 'सार्वनामिक विशेषण' युक्त वाक्य का चयन कीजिये -

- Ans 1. सूखी घास में पैर मत रखो
 2. यह वायलिन टूट गया
 3. विद्यार्थी बहुत व्यवहारकुशल है
 4. उसे मेरे पास बुलाओ

Question ID : 630680249412
Option 1 ID : 630680967728
Option 2 ID : 630680967730
Option 3 ID : 630680967729
Option 4 ID : 630680967727
Status : Answered
Chosen Option : 2

Q.8 निम्नलिखित में से शुद्ध विलोमार्थक-युग्म की पहचान करें-

- Ans 1. सर्जन - सृष्टि
 2. परिणत - अपरिमित
 3. नीरुज - सरस
 4. पुष्ट - क्षीण

Question ID : 630680249403
Option 1 ID : 630680967694
Option 2 ID : 630680967692
Option 3 ID : 630680967693
Option 4 ID : 630680967691
Status : Answered
Chosen Option : 3

Q.9 'तरुणी - तरणी' समश्रुत भिन्नार्थक शब्द-युग्म के लिए क्रमशः सही अर्थ वाले विकल्प का चयन कीजिए-

- Ans 1. युवती - सूर्य
 2. सूर्य - नाव
 3. युवती - नाव
 4. नाव - युवती

Question ID : 630680249406
Option 1 ID : 630680967704
Option 2 ID : 630680967706
Option 3 ID : 630680967705
Option 4 ID : 630680967703
Status : Answered
Chosen Option : 3

Q.10 निम्नलिखित में से एक शब्द का अर्थ शेष तीन से बिलकुल भिन्न है। उस विकल्प का चयन कीजिये-

- Ans 1. अमृत
 2. जल
 3. अम्बर
 4. दूध

Question ID : 630680249407
Option 1 ID : 630680967709
Option 2 ID : 630680967708
Option 3 ID : 630680967710
Option 4 ID : 630680967707
Status : Answered
Chosen Option : 3

Q.11 किस शब्द के विच्छेद में व्यंजन सन्धि है? सही विकल्प की पहचान कीजिए-

- Ans 1. पवन
 2. अबिंधन
 3. अत्यूष्म
 4. निस्तार

Question ID : 630680249413
Option 1 ID : 630680967732
Option 2 ID : 630680967731
Option 3 ID : 630680967734
Option 4 ID : 630680967733
Status : Answered
Chosen Option : 4

Q.12 निम्नलिखित में से उस विच्छेद की पहचान कीजिए जिसमें 'यण् स्वर सन्धि' है?

- Ans 1. पितृ + ऋण
 2. पितृ + आदेश
 3. मही + ईश
 4. परि + छेद

Question ID : 630680249414
Option 1 ID : 630680967738
Option 2 ID : 630680967737
Option 3 ID : 630680967736
Option 4 ID : 630680967735
Status : Answered
Chosen Option : 1

Q.13 निम्नलिखित में से 'विहित' शब्द के विलोम-युग्म की पहचान कीजिए-

- Ans 1. वाग्मी
 2. विरत
 3. निषिद्ध
 4. वीर

Question ID : 630680249404
Option 1 ID : 630680967698
Option 2 ID : 630680967697
Option 3 ID : 630680967696
Option 4 ID : 630680967695
Status : Answered
Chosen Option : 1

Q.14 निम्नलिखित में से 'विकीर्ण' शब्द के विलोम-युग्म की पहचान कीजिए-

- Ans 1. एकत्र
 2. उग्र
 3. कोमल
 4. निर्माण

Question ID : 630680249405
Option 1 ID : 630680967702
Option 2 ID : 630680967699
Option 3 ID : 630680967700
Option 4 ID : 630680967701
Status : Answered
Chosen Option : 2

Q.15 निम्नलिखित में से तत्सम शब्द का चयन कीजिये -

- Ans 1. दोहिती
 2. दुविधा
 3. दुति
 4. द्विपट्ट

Question ID : 630680249401
Option 1 ID : 630680967683
Option 2 ID : 630680967685
Option 3 ID : 630680967684
Option 4 ID : 630680967686
Status : Answered
Chosen Option : 2

Q.16 निम्नलिखित में से किस समूह के सभी शब्द आपस में पर्यायवाची हैं?

Ans 1. केतन, पताका, निशान

2. शिक्षा, अधिप, पठन

3. कपाट, चतुर, शलभ

4. तन्वंग, पतंग, तरल

Question ID : 630680249402

Option 1 ID : 630680967688

Option 2 ID : 630680967689

Option 3 ID : 630680967690

Option 4 ID : 630680967687

Status : Answered

Chosen Option : 2

Comprehension:

निम्नलिखित गद्यांश के आधार पर प्रश्न-संख्या 1- 4 का उत्तर दीजिए-

'महान व्यक्तियों का जन्मदिन ही उनकी 'जयंती' कहलाता है ; यथा 25 मई बुद्ध जयंती, 13 अप्रैल महावीर जयंती, 14 अप्रैल अंबेडकर जयंती और 2 अक्टूबर गांधी जयंती इत्यादि। महान व्यक्तियों की जयंती अत्यंत धूमधाम से मनाई जाती है। इसके पीछे यह प्रमुख उद्देश्य होता है कि उनके महान कार्यों को जन-जन तक पहुँचाया जाए।

2 अक्टूबर हमारे राष्ट्रपिता महात्मा गांधी का जन्मदिन है। इसीलिए देश भर में गांधी जयंती एक राष्ट्रीय पर्व के रूप में मनाई जाती है। इस दिन शिक्षण संस्थाओं एवं सरकारी कार्यालयों में छुट्टी रहती है। स्कूल कॉलेज के छात्रों एवं स्वयंसेवी संस्थाओं द्वारा प्रभात फेरियाँ निकाली जाती हैं। गाँव एवं शहर के गली-मुहल्लों की सफाई की जाती है। दरिद्र नारायण के बीच भोजन तथा वस्त्र आदि बाँटे जाते हैं। चरखों पर सूत काता जाता है और भजन आदि गाये जाते हैं।

विद्यालयों तथा सरकारी संस्थाओं में इस अवसर पर सभा का आयोजन किया जाता है, सर्वप्रथम मुख्य अतिथि द्वारा गांधी जी की प्रतिमा पर माल्यार्पण किया जाता है, उसके बाद श्रद्धालुओं द्वारा बारी-बारी से उनके चित्र पर पुष्पांजलि अर्पित की जाती है। छात्रों या स्थानीय कलाकारों द्वारा गांधी जी के सबसे प्रिय भजन 'ईश्वर अल्लाह तेरे नाम सबको सन्मति दे भगवान' और 'वैष्णव जन तो तेने कहिए जे पीर पराई जाने रे' गाये जाते हैं।

आज हिंसा और अशांति से त्रस्त इस विश्व में गाँधीवाद के सहारे ही शांति लायी जा सकती है। गाँधीवाद की बुनियाद पर ही दक्षिण अफ्रीका को आजादी मिली। दक्षिण अफ्रीका के नेता नेल्सन मंडेला का कहना है कि जब-जब उन्हें आत्मबल की कमी महसूस होती है, तब दिल्ली स्थित बापू की समाधि से ही उन्हें प्रेरणा मिलती है। गाँधीजी संपूर्ण विश्व के लिए प्रेरणा स्रोत हैं।

SubQuestion No : 17

Q.17 भारतवर्ष में प्रतिवर्ष 2 अक्टूबर को किस रूप में मनाया जाता है?

Ans 1. अंबेडकर जयंती के रूप में

2. गाँधी जयंती के रूप में

3. बुद्ध जयंती के रूप में

4. महावीर जयंती के रूप में

Question ID : 630680249418

Option 1 ID : 630680967750

Option 2 ID : 630680967749

Option 3 ID : 630680967748

Option 4 ID : 630680967747

Status : Answered

Chosen Option : 2

Comprehension:

निम्नलिखित गद्यांश के आधार पर प्रश्न-संख्या 1- 4 का उत्तर दीजिए-

'महान व्यक्तियों का जन्मदिन ही उनकी 'जयंती' कहलाता है ; यथा 25 मई बुद्ध जयंती, 13 अप्रैल महावीर जयंती, 14 अप्रैल अंबेडकर जयंती और 2 अक्टूबर गांधी जयंती इत्यादि। महान व्यक्तियों की जयंती अत्यंत धूमधाम से मनाई जाती है। इसके पीछे यह प्रमुख उद्देश्य होता है कि उनके महान कार्यों को जन-जन तक पहुँचाया जाए। 2 अक्टूबर हमारे राष्ट्रपिता महात्मा गांधी का जन्मदिन है। इसीलिए देश भर में गांधी जयंती एक राष्ट्रीय पर्व के रूप में मनाई जाती है। इस दिन शिक्षण संस्थाओं एवं सरकारी कार्यालयों में छुट्टी रहती है। स्कूल कॉलेज के छात्रों एवं स्वयंसेवी संस्थाओं द्वारा प्रभात फेरियों निकाली जाती हैं। गाँव एवं शहर के गली-मुहल्लों की सफाई की जाती है। दरिद्र नारायण के बीच भोजन तथा वस्त्र आदि बाँटे जाते हैं। चरखों पर सूत काता जाता है और भजन आदि गाये जाते हैं। विद्यालयों तथा सरकारी संस्थाओं में इस अवसर पर सभा का आयोजन किया जाता है, सर्वप्रथम मुख्य अतिथि द्वारा गांधी जी की प्रतिमा पर माल्यार्पण किया जाता है, उसके बाद श्रद्धालुओं द्वारा बारी-बारी से उनके चित्र पर पुष्पांजलि अर्पित की जाती है। छात्रों या स्थानीय कलाकारों द्वारा गांधी जी के सबसे प्रिय भजन 'ईश्वर अल्लाह तेरे नाम सबको सन्मति दे भगवान' और 'वैष्णव जन तो तेने कहिए जे पीर पराई जाने रे' गाये जाते हैं। आज हिंसा और अशांति से त्रस्त इस विश्व में गाँधीवाद के सहारे ही शांति लायी जा सकती है। गाँधीवाद की बुनियाद पर ही दक्षिण अफ्रीका को आजादी मिली। दक्षिण अफ्रीका के नेता नेल्सन मंडेला का कहना है कि जब-जब उन्हें आत्मबल की कमी महसूस होती है, तब दिल्ली स्थित बापू की समाधि से ही उन्हें प्रेरणा मिलती है। गांधीजी संपूर्ण विश्व के लिए प्रेरणा स्रोत हैं।

SubQuestion No : 18

Q.18 उपर्युक्त गद्यांश के केन्द्रीय विषय के अनुसार उपयुक्त शीर्षक का चयन करें -

- Ans
- 1. राष्ट्र में जयंती समारोह
 - 2. गाँधीवाद और नेल्सन मंडेला
 - 3. राष्ट्रीय छुट्टी
 - 4. गाँधी जयंती

Question ID : 630680249419

Option 1 ID : 630680967754

Option 2 ID : 630680967753

Option 3 ID : 630680967751

Option 4 ID : 630680967752

Status : Answered

Chosen Option : 1

Comprehension:

निम्नलिखित गद्यांश के आधार पर प्रश्न-संख्या 1- 4 का उत्तर दीजिए-

'महान व्यक्तियों का जन्मदिन ही उनकी 'जयंती' कहलाता है ; यथा 25 मई बुद्ध जयंती, 13 अप्रैल महावीर जयंती, 14 अप्रैल अंबेडकर जयंती और 2 अक्टूबर गांधी जयंती इत्यादि। महान व्यक्तियों की जयंती अत्यंत धूमधाम से मनाई जाती है। इसके पीछे यह प्रमुख उद्देश्य होता है कि उनके महान कार्यों को जन-जन तक पहुँचाया जाए। 2 अक्टूबर हमारे राष्ट्रपिता महात्मा गांधी का जन्मदिन है। इसीलिए देश भर में गांधी जयंती एक राष्ट्रीय पर्व के रूप में मनाई जाती है। इस दिन शिक्षण संस्थाओं एवं सरकारी कार्यालयों में छुट्टी रहती है। स्कूल कॉलेज के छात्रों एवं स्वयंसेवी संस्थाओं द्वारा प्रभात फेरियाँ निकाली जाती हैं। गाँव एवं शहर के गली-मुहल्लों की सफाई की जाती है। दरिद्र नारायण के बीच भोजन तथा वस्त्र आदि बाँटे जाते हैं। चरखों पर सूत काता जाता है और भजन आदि गाये जाते हैं। विद्यालयों तथा सरकारी संस्थाओं में इस अवसर पर सभा का आयोजन किया जाता है, सर्वप्रथम मुख्य अतिथि द्वारा गांधी जी की प्रतिमा पर माल्यार्पण किया जाता है, उसके बाद श्रद्धालुओं द्वारा बारी-बारी से उनके चित्र पर पुष्पांजलि अर्पित की जाती है। छात्रों या स्थानीय कलाकारों द्वारा गांधी जी के सबसे प्रिय भजन 'ईश्वर अल्लाह तेरे नाम सबको सन्मति दे भगवान' और 'वैष्णव जन तो तेने कहिए जे पीर पराई जाने रे' गाये जाते हैं। आज हिंसा और अशांति से त्रस्त इस विश्व में गाँधीवाद के सहारे ही शांति लायी जा सकती है। गाँधीवाद की बुनियाद पर ही दक्षिण अफ्रीका को आजादी मिली। दक्षिण अफ्रीका के नेता नेल्सन मंडेला का कहना है कि जब-जब उन्हें आत्मबल की कमी महसूस होती है, तब दिल्ली स्थित बापू की समाधि से ही उन्हें प्रेरणा मिलती है। गांधीजी संपूर्ण विश्व के लिए प्रेरणा स्रोत हैं।

SubQuestion No : 19

Q.19 गद्यांश के अनुसार गाँधी जयंती के विषय में कौन सा कथन सही नहीं है?

- Ans 1. 2 अक्टूबर को पूरे देश में सरकारी छुट्टी नहीं होती है
2. दक्षिण अफ्रीका के नेता नेल्सन मंडेला भी गाँधीजी से आत्मबल पाते हैं
3. विद्यालयों में 'ईश्वर अल्लाह तेरे नाम सबको सन्मति दे भगवान' और 'वैष्णव जन तो तेने कहिए जे पीर पराई जाने रे' गांधी जी के सबसे प्रिय भजन गाये जाते हैं
4. गाँधी जयंती पर स्कूल कॉलेज के छात्रों एवं स्वयंसेवी संस्थाओं द्वारा प्रभात फेरियाँ निकाली जाती हैं

Question ID : 630680249420

Option 1 ID : 630680967755

Option 2 ID : 630680967758

Option 3 ID : 630680967757

Option 4 ID : 630680967756

Status : Answered

Chosen Option : 1

Comprehension:

निम्नलिखित गद्यांश के आधार पर प्रश्न-संख्या 1- 4 का उत्तर दीजिए-

'महान व्यक्तियों का जन्मदिन ही उनकी 'जयंती' कहलाता है ; यथा 25 मई बुद्ध जयंती, 13 अप्रैल महावीर जयंती, 14 अप्रैल अंबेडकर जयंती और 2 अक्टूबर गांधी जयंती इत्यादि। महान व्यक्तियों की जयंती अत्यंत धूमधाम से मनाई जाती है। इसके पीछे यह प्रमुख उद्देश्य होता है कि उनके महान कार्यों को जन-जन तक पहुँचाया जाए। 2 अक्टूबर हमारे राष्ट्रपिता महात्मा गांधी का जन्मदिन है। इसीलिए देश भर में गांधी जयंती एक राष्ट्रीय पर्व के रूप में मनाई जाती है। इस दिन शिक्षण संस्थाओं एवं सरकारी कार्यालयों में छुट्टी रहती है। स्कूल कॉलेज के छात्रों एवं स्वयंसेवी संस्थाओं द्वारा प्रभात फेरियों निकाली जाती हैं। गाँव एवं शहर के गली-मुहल्लों की सफाई की जाती है। दरिद्र नारायण के बीच भोजन तथा वस्त्र आदि बाँटे जाते हैं। चरखों पर सूत काता जाता है और भजन आदि गाये जाते हैं। विद्यालयों तथा सरकारी संस्थाओं में इस अवसर पर सभा का आयोजन किया जाता है, सर्वप्रथम मुख्य अतिथि द्वारा गांधी जी की प्रतिमा पर माल्यार्पण किया जाता है, उसके बाद श्रद्धालुओं द्वारा बारी-बारी से उनके चित्र पर पुष्पांजलि अर्पित की जाती है। छात्रों या स्थानीय कलाकारों द्वारा गांधी जी के सबसे प्रिय भजन 'ईश्वर अल्लाह तेरे नाम सबको सन्मति दे भगवान' और 'वैष्णव जन तो तेने कहिए जे पीर पराई जाने रे' गाये जाते हैं। आज हिंसा और अशांति से त्रस्त इस विश्व में गाँधीवाद के सहारे ही शांति लायी जा सकती है। गाँधीवाद की बुनियाद पर ही दक्षिण अफ्रीका को आजादी मिली। दक्षिण अफ्रीका के नेता नेल्सन मंडेला का कहना है कि जब-जब उन्हें आत्मबल की कमी महसूस होती है, तब दिल्ली स्थित बापू की समाधि से ही उन्हें प्रेरणा मिलती है। गांधीजी संपूर्ण विश्व के लिए प्रेरणा स्रोत हैं।

SubQuestion No : 20

Q.20 महान व्यक्तियों की जयंती अत्यंत धूमधाम से क्यों मनाई जाती है?

- Ans
- 1. इसका प्रमुख उद्देश्य होता है कि वर्षभर में एक दिन साफ़-सफाई कराई जा सके
 - 2. इसका उद्देश्य है कि दरिद्र लोगों के बीच भोजन तथा वस्त्र आदि बाँटे जा सकें
 - 3. इसके पीछे का प्रमुख उद्देश्य गांधीवादी विचारों की मान्यता है
 - 4. इसके पीछे प्रमुख उद्देश्य उस महान व्यक्ति के महान कार्यों को जन-जन तक पहुँचाना होता है

Question ID : 630680249421

Option 1 ID : 630680967759

Option 2 ID : 630680967761

Option 3 ID : 630680967760

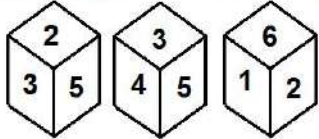
Option 4 ID : 630680967762

Status : Answered

Chosen Option : 4

Section : General Intelligence

Q.1 नीचे एक ही पासे की दो अलग-अलग स्थितियां दर्शायी गई हैं, जिसके छह फलकों पर 1 से 6 तक की संख्याएं अंकित हैं। उस संख्या का चयन कीजिए जो '4' अंकित फलक के विपरीत फलक पर होगी।



- Ans
- 1. 2
 - 2. 6
 - 3. 3
 - 4. 1

Question ID : 630680249535

Option 1 ID : 630680968216

Option 2 ID : 630680968218

Option 3 ID : 630680968217

Option 4 ID : 630680968215

Status : Answered

Chosen Option : 1

Q.2 दिए गए विकल्पों में से उस संख्या का चयन कीजिए जो निम्नलिखित शृंखला में प्रश्न-चिह्न (?) के स्थान पर आ सकती है।

13, 27, 56, 115, 234, ?

Ans 1. 473

2. 468

3. 466

4. 433

Question ID : 630680249539

Option 1 ID : 630680968234

Option 2 ID : 630680968233

Option 3 ID : 630680968232

Option 4 ID : 630680968231

Status : Answered

Chosen Option : 4

Q.3 दिए गए कथनों और निष्कर्षों को ध्यानपूर्वक पढ़िए। दी गई जानकारी को सत्य मानते हुए, भले ही वह सामान्य रूप से ज्ञात तथ्यों से भिन्न प्रतीत होती हो, तय कीजिए कि दिए गए निष्कर्षों में से कौन से निष्कर्ष कथनों का तार्किक रूप से अनुसरण करते हैं।

कथन:

कुछ पायलट, इंजीनियर हैं।

कोई इंजीनियर, शिक्षक नहीं है।

सभी विद्यार्थी, शिक्षक हैं।

निष्कर्ष:

I. कुछ शिक्षक, विद्यार्थी हैं।

II. कोई विद्यार्थी, इंजीनियर नहीं है।

III. सभी पायलट, शिक्षक हैं।

Ans 1. I, II, III सभी अनुसरण करते हैं

2. केवल II और III अनुसरण करते हैं

3. केवल I और III अनुसरण करते हैं

4. केवल I और II अनुसरण करते हैं

Question ID : 630680249523

Option 1 ID : 630680968170

Option 2 ID : 630680968169

Option 3 ID : 630680968167

Option 4 ID : 630680968168

Status : Answered

Chosen Option : 4

Q.4 शब्दों के चार युग्म दिए गए हैं जिनमें से तीन किसी प्रकार से आपस में संगत हैं जबकि कोई एक उनसे असंगत है। असंगत शब्द-युग्म का चयन कीजिए।

- Ans 1. फुटबॉल : बोगी
 2. क्रिकेट : वाइड
 3. शतरंज : वज़ीर
 4. कबड्डी : रेड

Question ID : 630680249530
Option 1 ID : 630680968195
Option 2 ID : 630680968196
Option 3 ID : 630680968197
Option 4 ID : 630680968198
Status : Answered
Chosen Option : 1

Q.5 निम्नांकित तालिका में प्रत्येक अक्षर के लिए एक यूनिक संख्या निर्धारित की गई है। संख्याओं के ऐसे संयोजन का चयन कीजिए जिसके अनुसार अक्षरों को व्यवस्थित करने पर एक अर्थपूर्ण शब्द बनेगा।

1	2	3	4	5	6	7	8
E	R	I	D	V	C	E	E

- Ans 1. 4, 1, 7, 6, 3, 5, 8, 2
 2. 4, 1, 6, 3, 7, 5, 8, 2
 3. 4, 1, 6, 7, 3, 5, 2, 8
 4. 4, 1, 6, 7, 3, 5, 8, 2

Question ID : 630680249526
Option 1 ID : 630680968181
Option 2 ID : 630680968179
Option 3 ID : 630680968180
Option 4 ID : 630680968182
Status : Answered
Chosen Option : 4

Q.6 1 से 7 क्रमांक वाले सात बॉक्स एक के ऊपर एक करके रखे गए हैं लेकिन उनका इसी क्रम में होना आवश्यक नहीं है। बॉक्स-7, बॉक्स-5 के ठीक नीचे रखा गया है। बॉक्स-1 ऊपर से तीसरा बॉक्स है। बॉक्स-3 के नीचे केवल दो बॉक्स रखे गए हैं। बॉक्स-4, बॉक्स-1 के ठीक ऊपर रखा गया है। बॉक्स-2 को सबसे ऊपर नहीं रखा गया है। बॉक्स-3, बॉक्स-5 के ठीक ऊपर रखा गया है। बॉक्स-6 के ठीक नीचे कौन-सा बॉक्स रखा गया है?

- Ans 1. बॉक्स-5
 2. बॉक्स-4
 3. बॉक्स-2
 4. बॉक्स-7

Question ID : 630680249522
Option 1 ID : 630680968166
Option 2 ID : 630680968163
Option 3 ID : 630680968165
Option 4 ID : 630680968164
Status : Answered
Chosen Option : 2

Q.7 दिए गए विकल्पों में से उस पद का चयन कीजिए जो निम्नलिखित शृंखला में प्रश्न-चिह्न (?) के स्थान पर आ सकता है।

GNW-5, HQA-9, ITE-17, JWI-33, ?

- Ans
- 1. KAN-65
 - 2. KZM-67
 - 3. KZN-66
 - 4. KZM-65

Question ID : 630680249525

Option 1 ID : 630680968176

Option 2 ID : 630680968177

Option 3 ID : 630680968175

Option 4 ID : 630680968178

Status : Answered

Chosen Option : 4

Q.8 दिए गए विकल्पों में से उस संख्या का चयन कीजिए जो निम्नलिखित समीकरण में प्रश्न-चिह्न (?) के स्थान पर आ सकती है।

$$13.98 - (12.02 \div 4.002) + 24.99 \times 5.09 + 17.98 \div 2.95 = ?$$

- Ans
- 1. 122
 - 2. 132
 - 3. 148
 - 4. 142

Question ID : 630680249540

Option 1 ID : 630680968235

Option 2 ID : 630680968236

Option 3 ID : 630680968238

Option 4 ID : 630680968237

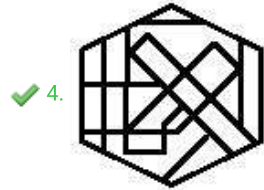
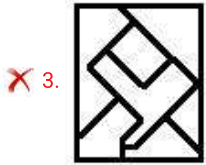
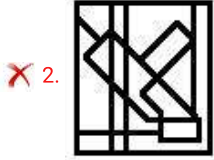
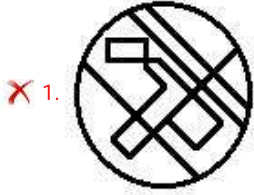
Status : Answered

Chosen Option : 3

Q.9 उस विकल्प का चयन कीजिए जिसमें नीचे दी गई आकृति अंतःस्थापित है। (आकृति को घुमाने की अनुमति नहीं है)



Ans



Question ID : 630680249536

Option 1 ID : 630680968219

Option 2 ID : 630680968221

Option 3 ID : 630680968222

Option 4 ID : 630680968220

Status : Answered

Chosen Option : 4

Q.10 उस विकल्प का चयन कीजिए जो पांचवें अक्षर-समूह से उसी प्रकार संबंधित है जिस प्रकार दूसरा अक्षर-समूह पहले अक्षर-समूह से और चौथा अक्षर-समूह तीसरे अक्षर-समूह से संबंधित है।

MAGIC : CIGAM :: FOUND : DNUOF :: PRICE : ?

Ans ✓ 1. ECIRP

✗ 2. PCIER

✗ 3. CEIRP

✗ 4. ECIPR

Question ID : 630680249529

Option 1 ID : 630680968191

Option 2 ID : 630680968194

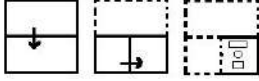
Option 3 ID : 630680968193

Option 4 ID : 630680968192

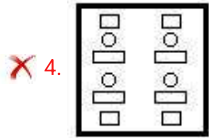
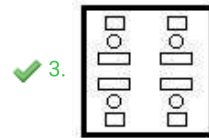
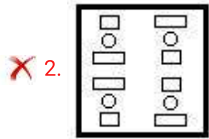
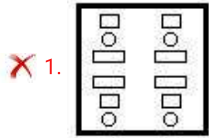
Status : Answered

Chosen Option : 1

Q.11 निम्नांकित आकृतियों में कागज़ की एक पारदर्शी शीट को मोड़ने का क्रम और मुड़े हुए कागज़ को काटने की विधि दर्शायी गई है। खोलने पर यह कागज़ कैसा दिखेगा?



Ans



Question ID : 630680249537

Option 1 ID : 630680968225

Option 2 ID : 630680968226

Option 3 ID : 630680968223

Option 4 ID : 630680968224

Status : Answered

Chosen Option : 3

Q.12 एक निश्चित कूट भाषा में, 'TORQUE' को '40-30-36-34-42-10' और 'CLAN' को '6-24-2-28' लिखा जाता है। उसी कूट भाषा में 'FRIDAY' को क्या लिखा जाएगा?

Ans ✗ 1. 12-38-18-8-2-40

✗ 2. 12-36-16-6-2-50

✓ 3. 12-36-18-8-2-50

✗ 4. 10-36-16-8-2-50

Question ID : 630680249528

Option 1 ID : 630680968190

Option 2 ID : 630680968187

Option 3 ID : 630680968189

Option 4 ID : 630680968188

Status : Answered

Chosen Option : 3

Q.13 निम्नलिखित समीकरण को सही करने के लिए किन दो चिह्नों को परस्पर बदला जाना चाहिए?

$$14 \times 5 - 56 \div 7 + 35 = 43$$

- Ans
- 1. + और ÷
 - 2. × और -
 - 3. + और -
 - 4. ÷ और ×

Question ID : 630680249541

Option 1 ID : 630680968241

Option 2 ID : 630680968239

Option 3 ID : 630680968242

Option 4 ID : 630680968240

Status : Answered

Chosen Option : 3

Q.14 एक निश्चित कूट भाषा में, 'FLOWER' को 'IVDLOU' और 'CLEANS' को 'HMZVOX' लिखा जाता है। उसी कूट भाषा में 'PROFIT' को क्या लिखा जाएगा?

- Ans
- 1. GQUMIK
 - 2. GRULIK
 - 3. GRULHJ
 - 4. HRULIJ

Question ID : 630680249527

Option 1 ID : 630680968183

Option 2 ID : 630680968184

Option 3 ID : 630680968185

Option 4 ID : 630680968186

Status : Answered

Chosen Option : 2

Q.15 I, II और III के रूप में क्रमांकित तीन कथन दिए गए हैं। कथनों में दी गई सभी बातों को सत्य मानते हुए, इन कथनों के बीच कारण और प्रभाव संबंध निर्धारित कीजिए और तय कीजिए कि कौन सा/से कथन कारण है/हैं और कौन सा/से कथन प्रभाव है/हैं।

कथन:

I. पारिवारिक उत्तरदायित्वों और व्यक्तिगत स्वास्थ्य चिंताओं जैसे अन्य कारकों की तुलना में नौकरी के तनाव को तनावों की कोटि में शीर्ष पर रखना चाहिए।

II. काम की अत्यधिक मात्रा और अवास्तविक समय सीमा लोगों को अधिक उद्विग्न करती है और दबाव में डाल देती है।

III. कंपनियां वर्क प्रोफाइल के अनुरूप उचित वेतन प्रदान कर रही हैं।

- Ans
- 1. कथनों के बीच कोई कारण और प्रभाव संबंध मौजूद नहीं है।
 - 2. कथन II कारण है और कथन I इसका प्रभाव है।
 - 3. कथन I और III कारण हैं और कथन II इसका प्रभाव है।
 - 4. कथन I कारण है और कथन II इसका प्रभाव है।

Question ID : 630680249531

Option 1 ID : 630680968202

Option 2 ID : 630680968201

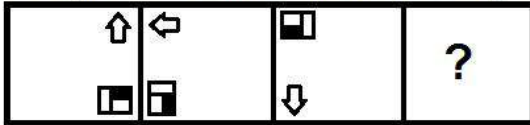
Option 3 ID : 630680968199

Option 4 ID : 630680968200

Status : Answered


Chosen Option : 2

Q.16 उस आकृति का चयन कीजिए जो निम्नांकित आकृति-शृंखला में अगले स्थान पर आएगी।




Ans

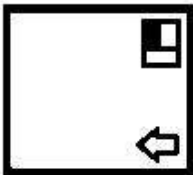
✓ 1.




✗ 2.



✗ 3.



✗ 4.



Question ID : 630680249533

Option 1 ID : 630680968208

Option 2 ID : 630680968210

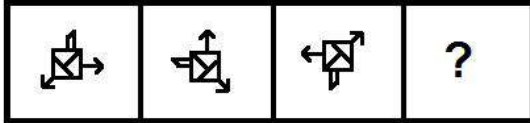
Option 3 ID : 630680968209

Option 4 ID : 630680968207

Status : Answered

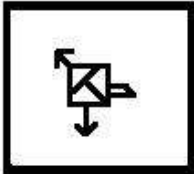
Chosen Option : 1

Q.17 उस आकृति का चयन कीजिए जो निम्नांकित आकृति-शुंखला में अगले स्थान पर आएगी।

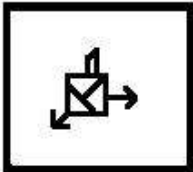


Ans

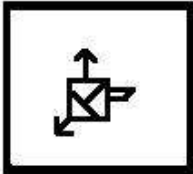
✓ 1.



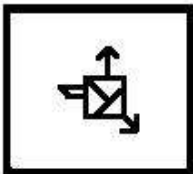
✗ 2.



✗ 3.



✗ 4.



Question ID : 630680249532

Option 1 ID : 630680968204

Option 2 ID : 630680968205

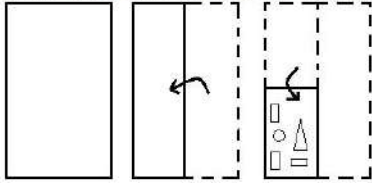
Option 3 ID : 630680968203

Option 4 ID : 630680968206

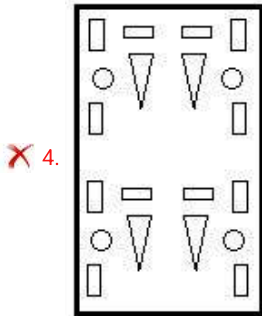
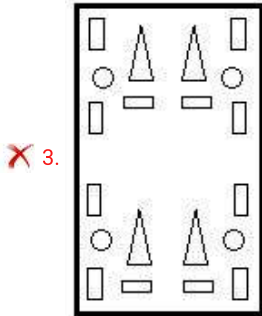
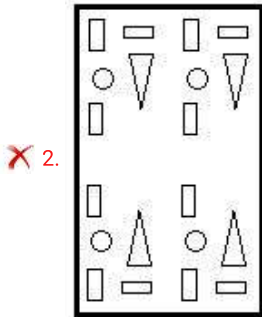
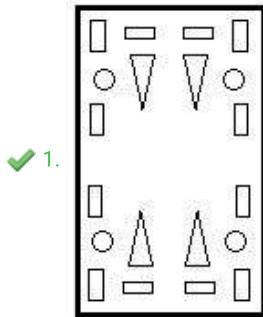
Status : Answered

Chosen Option : 1

Q.18 निम्नांकित आकृतियों में कागज़ की एक पारदर्शी शीट को मोड़ने का क्रम और मुड़े हुए कागज़ को काटने की विधि दर्शायी गई है। खोलने पर यह कागज़ केसा दिखेगा?



Ans



Question ID : 630680249538

Option 1 ID : 630680968228

Option 2 ID : 630680968229

Option 3 ID : 630680968227

Option 4 ID : 630680968230

Status : Answered

Chosen Option : 1

Q.19 यदि $G > T, H < R, R < T, H = M, M > N$ है, तो निम्नलिखित में से कौन-सा निष्कर्ष सही नहीं होगा?

- Ans
- 1. $N < H$
 - 2. $T > M$
 - 3. $R < M$
 - 4. $G > H$

Question ID : 630680249524

Option 1 ID : 630680968173

Option 2 ID : 630680968172

Option 3 ID : 630680968174

Option 4 ID : 630680968171

Status : Answered

Chosen Option : 3

Q.20 जब दर्पण को निम्नानुसार 'PQ' पर रखा गया हो, तो दिए गए संयोजन के सही दर्पण प्रतिबिंब का चयन कीजिए।

2 g h a z 7

- Ans
- 1.
 - 2.
 - 3.
 - 4.

Question ID : 630680249534

Option 1 ID : 630680968213

Option 2 ID : 630680968214

Option 3 ID : 630680968212

Option 4 ID : 630680968211

Status : Answered

Chosen Option : 3

Section : Numerical Aptitude

Q.1 यदि दो संख्याओं का लघुतम समापवर्त्य (LCM) और महत्तम समापवर्तक (HCF) क्रमशः 96 और 8 हैं, और उनका योग 56 है, तो उन दो संख्याओं के व्युत्क्रम का योग _____ है।

- Ans
- ✓ 1. $\frac{7}{96}$
 - ✗ 2. $\frac{7}{69}$
 - ✗ 3. $\frac{8}{69}$
 - ✗ 4. $\frac{5}{96}$

Question ID : 630680249381
Option 1 ID : 630680967604
Option 2 ID : 630680967605
Option 3 ID : 630680967606
Option 4 ID : 630680967603
Status : Answered
Chosen Option : 1

Q.2 एक पुस्तक का अंकित मूल्य ₹900 था। किसी व्यक्ति ने क्रमागत दो छूट प्राप्त करने के बाद ₹769.50 में पुस्तक खरीदी, पहली छूट 5% थी। दूसरी छूट की दर क्या थी?

- Ans
- ✗ 1. 11%
 - ✓ 2. 10%
 - ✗ 3. 9.5%
 - ✗ 4. 10.5%

Question ID : 630680249386
Option 1 ID : 630680967624
Option 2 ID : 630680967625
Option 3 ID : 630680967626
Option 4 ID : 630680967623
Status : Answered
Chosen Option : 1

Q.3 पिछले वर्ष, अरुण और भार्गव के वेतन का अनुपात 4 : 5 था। यदि, चालू वर्ष में, उनमें से प्रत्येक के वेतन में ₹5,000 की वृद्धि की जाती है, तो नया अनुपात 9 : 11 हो जाता है। चालू वर्ष में अरुण का वेतन कितना है?

- Ans
- ✓ 1. ₹50,000
 - ✗ 2. ₹55,000
 - ✗ 3. ₹60,000
 - ✗ 4. ₹45,000

Question ID : 630680249387
Option 1 ID : 630680967628
Option 2 ID : 630680967627
Option 3 ID : 630680967630
Option 4 ID : 630680967629
Status : Answered
Chosen Option : 4

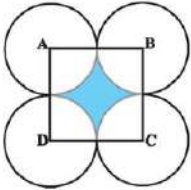
Q.4 दो उम्मीदवारों के बीच एक चुनाव में, 20% मतदाताओं ने वोट नहीं डाला, जबकि डाले गए वोटों में से 5% को अवैध घोषित कर दिया गया। यदि एक उम्मीदवार को 9880 वोट मिले, जो वैध वोटों का 65% थे, तो दूसरे उम्मीदवार को मिले वैध वोटों की संख्या ज्ञात कीजिए।

- Ans
- ✗ 1. 3990
 - ✓ 2. 5320
 - ✗ 3. 4788
 - ✗ 4. 5852

Question ID : 630680249384
 Option 1 ID : 630680967618
 Option 2 ID : 630680967616
 Option 3 ID : 630680967617
 Option 4 ID : 630680967615
 Status : Answered
 Chosen Option : 1

Q.5 निम्नलिखित आकृति में, ABCD भुजा 16.8 cm का एक वर्ग है। केंद्र A, B, C और D के साथ, चार वृत्त इस प्रकार खींचे जाते हैं कि प्रत्येक वृत्त शेष तीन वृत्तों में से दो को बाह्य रूप से स्पर्श करता है। छायांकित क्षेत्र का क्षेत्रफल ज्ञात कीजिए।

($\pi = \frac{22}{7}$ का उपयोग कीजिए।)



- Ans
- ✗ 1. 61.44 cm²
 - ✓ 2. 60.48 cm²
 - ✗ 3. 63.36 cm²
 - ✗ 4. 62.40 cm²

Question ID : 630680249398
 Option 1 ID : 630680967672
 Option 2 ID : 630680967671
 Option 3 ID : 630680967674
 Option 4 ID : 630680967673
 Status : Answered
 Chosen Option : 1

Q.6 रेखिक समीकरणों $3x - y + 5 = 0$ और $2x + 3y - 4 = 0$ के ग्राफ, बिंदु P (α, β) पर प्रतिच्छेद करते हैं। बिंदु P भी _____ के ग्राफ पर स्थित है।

- Ans
- 1. $4x + 3y + 2 = 0$
 - 2. $4x + 3y - 1 = 0$
 - 3. $5x + 2y + 1 = 0$
 - 4. $5x - 2y - 3 = 0$

Question ID : 630680249397

Option 1 ID : 630680967669

Option 2 ID : 630680967670

Option 3 ID : 630680967668

Option 4 ID : 630680967667

Status : Answered

Chosen Option : 1

Q.7 सरिता की आय, ममता की आय से 20% अधिक है और सरिता की आय ₹42,000 है। ममता की बचत ₹ 12,000 है, जो सरिता की बचत से 20% अधिक है। सरिता और ममता के व्यय के बीच कितना अंतर (₹ में) है?

- Ans
- 1. 9,000
 - 2. 9,500
 - 3. 7,500
 - 4. 8,000

Question ID : 630680249383

Option 1 ID : 630680967613

Option 2 ID : 630680967614

Option 3 ID : 630680967611

Option 4 ID : 630680967612

Status : Answered

Chosen Option : 1

Q.8 यदि $a + b = 20$ और $ab = 15$ है, तो $(a - b)^2$ का मान _____ के बराबर है।

- Ans
- 1. 240
 - 2. 340
 - 3. 740
 - 4. 440

Question ID : 630680249396

Option 1 ID : 630680967666

Option 2 ID : 630680967664

Option 3 ID : 630680967663

Option 4 ID : 630680967665

Status : Answered

Chosen Option : 2

Q.9 एक विभुजाकार पार्क की भुजाएँ 72 m, 154 m और 170 m हैं। इसका क्षेत्रफल एक वृत्ताकार गार्डन के क्षेत्रफल के बराबर है। ₹80 प्रति m^2 की दर से गार्डन की बाड़ लगाने की लागत (₹ में) क्या होगी?
($\pi = \frac{22}{7}$ का उपयोग कीजिए।)

- Ans
- 1. 24,640
 - 2. 19,360
 - 3. 17,600
 - 4. 21,120

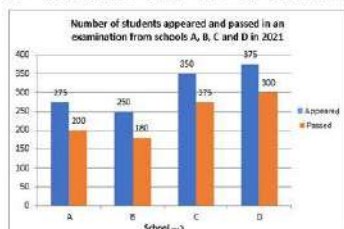
Question ID : 630680249399
Option 1 ID : 630680967678
Option 2 ID : 630680967676
Option 3 ID : 630680967675
Option 4 ID : 630680967677
Status : Answered
Chosen Option : 1

Q.10 वार्षिक 7.5% की साधारण ब्याज दर पर एक राशि दो वर्ष बाद ₹8,625 हो जाती है। साधारण ब्याज क्या है?

- Ans
- 1. ₹1,125
 - 2. ₹1,335
 - 3. ₹1,275
 - 4. ₹1,405

Question ID : 630680249388
Option 1 ID : 630680967633
Option 2 ID : 630680967632
Option 3 ID : 630680967631
Option 4 ID : 630680967634
Status : Answered
Chosen Option : 2

Q.11 निम्नलिखित ग्राफ का अध्ययन कीजिए और उसके बाद आने वाले प्रश्न का उत्तर दीजिए।



स्कूलों A, B और D से उपस्थित हुए विद्यार्थियों की औसत संख्या का, स्कूलों B और D से उत्तीर्ण हुए विद्यार्थियों की कुल संख्या से कितना अनुपात है?

2021 में स्कूलों A, B, C और D से एक परीक्षा में उपस्थित हुए और उत्तीर्ण हुए विद्यार्थियों की संख्या

Appeared = उपस्थित होना

Passed = उत्तीर्ण

School = स्कूल

- Ans
1. 2 : 3
2. 5 : 8
3. 3 : 5
4. 5 : 6

Question ID : 630680249395

Option 1 ID : 630680967659

Option 2 ID : 630680967661

Option 3 ID : 630680967660

Option 4 ID : 630680967662

Status : Answered

Chosen Option : 2

Q.12 एक पुस्तकालय में रविवार को औसतन 221 आगंतुक, शनिवार को औसतन 249 आगंतुक और गुरुवार से शुरू होने वाले वर्ष के जनवरी के महीने में सप्ताह के अन्य दिनों में औसतन 'x' आगंतुक होते हैं। यदि पूरे महीने में प्रति दिन आगंतुकों की औसत संख्या 195 है, तो 'x' का मान क्या है?

- Ans
1. 181
2. 177
3. 178
4. 179

Question ID : 630680249382

Option 1 ID : 630680967610

Option 2 ID : 630680967607

Option 3 ID : 630680967608

Option 4 ID : 630680967609

Status : Answered

Chosen Option : 2

Q.13 निम्नलिखित तालिका से, रमेश द्वारा प्राप्त औसत अंकों और महेश द्वारा प्राप्त औसत अंकों के बीच अनुपात ज्ञात कीजिए।

विद्यार्थी का नाम	अंग्रेजी	गणित	विज्ञान
रमेश	63	65	55
सुरेश	45	66	58
महेश	62	54	67
गणेश	49	98	73

- Ans
- 1. 2 : 1
 - 2. 1 : 1
 - 3. 3 : 2
 - 4. 1 : 2

Question ID : 630680249394
 Option 1 ID : 630680967658
 Option 2 ID : 630680967655
 Option 3 ID : 630680967657
 Option 4 ID : 630680967656
 Status : Answered
 Chosen Option : 2

Q.14 $\frac{\tan\theta + \cot\theta}{1 + \cos\theta - \sin^2\theta} \times \frac{\cot\theta(1 + \cos\theta)}{\sqrt{\sec^2\theta + \operatorname{cosec}^2\theta}}$, $0^\circ < \theta < 90^\circ$, _____ के बराबर है।

- Ans
- 1. $\tan\theta$
 - 2. $\sec\theta$
 - 3. $\cot\theta$
 - 4. $\operatorname{cosec}\theta$

Question ID : 630680249400
 Option 1 ID : 630680967682
 Option 2 ID : 630680967680
 Option 3 ID : 630680967681
 Option 4 ID : 630680967679
 Status : Answered
 Chosen Option : 2

Q.15 एक दुकानदार ने ₹36 प्रति kg की दर से 50 kg चीनी खरीदी और उसे ₹39 प्रति kg की दर वाली 100 kg चीनी में मिला दिया। 9% का लाभ प्राप्त करने के लिए उसे मिश्रण को प्रति kg किस दर पर बेचना चाहिए?

- Ans
- 1. ₹40.32
 - 2. ₹43.35
 - 3. ₹42.56
 - 4. ₹41.42

Question ID : 630680249385

Option 1 ID : 630680967622

Option 2 ID : 630680967621

Option 3 ID : 630680967619

Option 4 ID : 630680967620

Status : Answered

Chosen Option : 2

Q.16 अर्जुन अपने गंतव्य तक पहुँचने के लिए एक निश्चित दूरी का एक-तिहाई भाग 45 km/h की चाल से तय करता है; शेष दूरी का आधा भाग 60 km/h की चाल से और शेष दूरी 90 km/h की चाल से तय करता है। इस पूरी यात्रा में उसकी औसत चाल क्या है?

- Ans
- 1. 55 km/h
 - 2. 65 km/h
 - 3. 60 km/h
 - 4. 50 km/h

Question ID : 630680249390

Option 1 ID : 630680967641

Option 2 ID : 630680967642

Option 3 ID : 630680967639

Option 4 ID : 630680967640

Status : Answered

Chosen Option : 1

Q.17 स्थिर जल में एक नाव की चाल का धारा की चाल से अनुपात 11 : 4 है। नाव को धारा के अनुकूल 54 km की यात्रा करने में 72 मिनट लगते हैं।

नाव को धारा के अनुकूल 63 km और धारा के प्रतिकूल 42 km की यात्रा करने में कितना समय (घंटों में) लगेगा?

- Ans
- 1. 3.5
 - 2. 4
 - 3. 3
 - 4. 3.4

Question ID : 630680249391

Option 1 ID : 630680967644

Option 2 ID : 630680967643

Option 3 ID : 630680967646

Option 4 ID : 630680967645

Status : Answered

Chosen Option : 4

Q.18 ₹64,000 पर 12% वार्षिक दर से 2 वर्ष के लिए चक्रवृद्धि ब्याज कितना है. ब्याज वार्षिक रूप से चक्रवृद्धित है?

- Ans
- ✓ 1. ₹16,281.60
 - ✗ 2. ₹16,433.50
 - ✗ 3. ₹16,352.30
 - ✗ 4. ₹16,564.40

Question ID : 630680249389

Option 1 ID : 630680967638

Option 2 ID : 630680967636

Option 3 ID : 630680967637

Option 4 ID : 630680967635

Status : Answered

Chosen Option : 3

Q.19 A किसी कार्य को 24 दिन में कर सकता है। B, A से 20% कम कुशल है। A और B दोनों ने मिलकर 4 दिन तक कार्य किया। B और C ने मिलकर कार्य करते हुए शेष कार्य को 14 दिन में पूरा किया। A, B और C मिलकर मूल कार्य के $\frac{11}{12}$ भाग को कितने समय में पूरा कर सकते हैं?

- Ans
- ✗ 1. 12 दिन
 - ✗ 2. 8 दिन
 - ✗ 3. 9 दिन
 - ✓ 4. 10 दिन

Question ID : 630680249393

Option 1 ID : 630680967654

Option 2 ID : 630680967651

Option 3 ID : 630680967653

Option 4 ID : 630680967652

Status : Answered

Chosen Option : 2

Q.20 एक पानी की टंकी का एक-छठा भाग भरा हुआ है। पाइप A और B टंकी को क्रमशः 6 घंटे और 9 घंटे में भर सकते हैं। यदि दोनों पाइपों को खोल दिया जाए, तो शेष टंकी को पूरा भरने में कितना समय लगेगा?

- Ans
- ✗ 1. 4 घंटे
 - ✗ 2. 6 घंटे
 - ✗ 3. 5 घंटे
 - ✓ 4. 3 घंटे

Question ID : 630680249392

Option 1 ID : 630680967648

Option 2 ID : 630680967650

Option 3 ID : 630680967649

Option 4 ID : 630680967647

Status : Answered

Chosen Option : 2

Section : Clerical Aptitude

Q.1 P, Q, R, S मित्र हैं।

- P और Q फुटबॉल और क्रिकेट खेलते हैं।
- Q और R क्रिकेट और हॉकी खेलते हैं।
- P और S बेसबॉल और फुटबॉल खेलते हैं।
- R और S हॉकी और बेसबॉल खेलते हैं।

Q, R और S कौन सा खेल खेलते हैं?

- Ans 1. हॉकी
2. क्रिकेट
3. फुटबॉल
4. बेसबॉल

Question ID : 630680249580

Option 1 ID : 630680968393

Option 2 ID : 630680968394

Option 3 ID : 630680968391

Option 4 ID : 630680968392

Status : Answered

Chosen Option : 1

Q.2 यदि निम्नलिखित शब्दों को अंग्रेजी शब्दकोश में उनके क्रम के अनुसार व्यवस्थित किया जाए, तो इनमें से कौन-सा शब्द सबसे अंत में आएगा?

- 1) Shearings
- 2) Sheaflike
- 3) Sheathier
- 4) Sheatfish
- 5) Shearling

- Ans 1. 3
2. 4
3. 1
4. 5

Question ID : 630680249577

Option 1 ID : 630680968382

Option 2 ID : 630680968380

Option 3 ID : 630680968381

Option 4 ID : 630680968379

Status : Answered

Chosen Option : 2

Q.3 उस संख्या की पहचान करें जो निम्नलिखित श्रेणी से संबंधित नहीं है।

5 20 50 65 95 115 140

- Ans
- 1. 20
 - 2. 65
 - 3. 140
 - 4. 115

Question ID : 630680249576

Option 1 ID : 630680968378

Option 2 ID : 630680968375

Option 3 ID : 630680968377

Option 4 ID : 630680968376

Status : Answered

Chosen Option : 4

Q.4 नीचे एक वाक्य के कुछ भाग अव्यवस्थित क्रम में दिए गए हैं। सार्थक वाक्य निर्माण के लिए भागों को सही क्रम में व्यवस्थित करें।

- 1) to white, beautiful beaches
- 2) for swimming and relaxing
- 3) Mandvi Beach is host
- 4) with amazing seawater

- Ans
- 1. 3, 1, 4, 2
 - 2. 3, 4, 2, 1
 - 3. 3, 1, 2, 4
 - 4. 3, 2, 4, 1

Question ID : 630680249573

Option 1 ID : 630680968366

Option 2 ID : 630680968365

Option 3 ID : 630680968364

Option 4 ID : 630680968363

Status : Answered

Chosen Option : 3

Q.5 उस सबसे उपयुक्त विकल्प का चयन करें जो दिए गए वाक्य में रेखांकित शब्द को प्रतिस्थापित कर सकता है।

Kapu beach is in Karnataka, near Udupi and is very popular with the students on Manipal.

- Ans
- 1. Into
 - 2. Of
 - 3. Off
 - 4. To

Question ID : 630680249571

Option 1 ID : 630680968357

Option 2 ID : 630680968356

Option 3 ID : 630680968355

Option 4 ID : 630680968358

Status : Answered

Chosen Option : 2

Q.6 दिए गए विकल्पों में से उस संख्या का चयन कीजिए, जो निम्नलिखित श्रृंखला में प्रश्नवाचक चिह्न (?) के स्थान पर आएगी।

6, 12, 14, 28, 30, 60, ?

Ans 1. 120

2. 62

3. 58

4. 80

Question ID : 630680249567

Option 1 ID : 630680968341

Option 2 ID : 630680968342

Option 3 ID : 630680968339

Option 4 ID : 630680968340

Status : Answered

Chosen Option : 2

Q.7 दिए गए कथनों और निष्कर्षों को ध्यानपूर्वक पढ़िए। यह मानते हुए कि कथनों में दी गई जानकारी सत्य है, भले ही यह सामान्यतः ज्ञात तथ्यों से भिन्न प्रतीत होती हो, तय कीजिए कि दिए गए निष्कर्षों में से कौन सा/से निष्कर्ष, कथनों का तार्किक रूप से अनुसरण करता/करते है/हैं।

कथन:

A. कुछ चीते, भैंस हैं।

B. कुछ हिरण, घोड़ी हैं।

C. सभी घोड़ी, फॉन हैं।

निष्कर्ष:

(I) कुछ हिरण, भैंस हैं।

(II) कुछ फॉन, हिरण हैं।

(III) कुछ चीते, घोड़ी हैं।

Ans 1. केवल निष्कर्ष II अनुसरण करता है

2. केवल निष्कर्ष I अनुसरण करता है

3. कोई भी निष्कर्ष अनुसरण नहीं करता है

4. या तो निष्कर्ष I या तो III अनुसरण करता है

Question ID : 630680249569

Option 1 ID : 630680968348

Option 2 ID : 630680968347

Option 3 ID : 630680968350

Option 4 ID : 630680968349

Status : Answered

Chosen Option : 1

Q.8 दिए गए कथन और निष्कर्षों को ध्यानपूर्वक पढ़िए। तय कीजिए कि दिए गए निष्कर्षों में से कौन सा/से निष्कर्ष, कथन का तार्किक रूप से अनुसरण करता/करते है/हैं।

कथन: बच्चे के लिए माता-पिता का उन पर ध्यान देना सबसे कीमती चीज होती है; इसलिए, बच्चों के समुचित विकास के लिए उनकी भावनात्मक आवश्यकताओं को प्राथमिकता दी जानी चाहिए।

निष्कर्ष:

I. भावनात्मक उपेक्षा के कारण बच्चों में स्वलीनता हो सकती है।

II. देखभालकर्ता से बच्चों की भावनात्मक उपेक्षा उनके समुचित विकास में बाधा बन सकती है।

- Ans
- 1. दोनों निष्कर्ष अनुसरण करते हैं
 - 2. न तो निष्कर्ष I और न ही II अनुसरण करता है
 - 3. केवल निष्कर्ष II अनुसरण करता है
 - 4. केवल निष्कर्ष I अनुसरण करता है

Question ID : 630680249568

Option 1 ID : 630680968345

Option 2 ID : 630680968346

Option 3 ID : 630680968344

Option 4 ID : 630680968343

Status : Answered

Chosen Option : 4

Q.9 दिए गए विकल्पों में से उस अक्षरांकीय-समूह का चयन कीजिए, जो निम्नलिखित श्रृंखला में प्रश्नवाचक चिह्न (?) के स्थान पर आएगा।

30, 5M, 8K, 13I, ?

- Ans
- 1. 20F
 - 2. 20G
 - 3. 22G
 - 4. 18G

Question ID : 630680249563

Option 1 ID : 630680968323

Option 2 ID : 630680968324

Option 3 ID : 630680968325

Option 4 ID : 630680968326

Status : Answered

Chosen Option : 2

Q.10 ग़लत वर्तनी वाले शब्द का चयन करें।

- Ans
- 1. conscious
 - 2. contention
 - 3. consensious
 - 4. conscience

Question ID : 630680249572

Option 1 ID : 630680968360

Option 2 ID : 630680968362

Option 3 ID : 630680968359

Option 4 ID : 630680968361

Status : Answered

Chosen Option : 3

Q.11 रेखांकित वाक्यांश का सबसे उपयुक्त अर्थ चुनिए।
As the bomb exploded, students ran helter-skelter.

- Ans
- 1. अत्यन्त भय के साथ (In great fear)
 - 2. जल्दबाजी में (In hurry)
 - 3. आश्चर्यचकित होकर (In astonishment)
 - 4. अव्यवस्थित रूप से (A disorderly haste)

Question ID : 630680249582
Option 1 ID : 630680968400
Option 2 ID : 630680968401
Option 3 ID : 630680968402
Option 4 ID : 630680968399
Status : Answered
Chosen Option : 1

Q.12 उस विकल्प का चयन कीजिए, जो दिए गए शब्दों की सही व्यवस्था को उस क्रम में दर्शाता है जिसमें वे अंग्रेजी शब्दकोश में दिखाई देते हैं।

1. Feather
2. Fearful
3. Feast
4. Fearless
5. Feature
6. Fears

- Ans
- 1. 2, 4, 6, 3, 1, 5
 - 2. 2, 4, 6, 1, 3, 5
 - 3. 2, 4, 3, 6, 1, 5
 - 4. 2, 4, 6, 3, 5, 1

Question ID : 630680249565
Option 1 ID : 630680968331
Option 2 ID : 630680968333
Option 3 ID : 630680968334
Option 4 ID : 630680968332
Status : Answered
Chosen Option : 1

Q.13 विकल्पों में दिए गए चार शब्दों में से कौन सा शब्द, नीचे दिए गए शब्द के प्रत्येक अक्षर का केवल एक बार उपयोग करके नहीं बनाया जा सकता है?

SENTENCE

- Ans
- 1. SENNET
 - 2. TENSES
 - 3. CETES
 - 4. SCENT

Question ID : 630680249579
Option 1 ID : 630680968388
Option 2 ID : 630680968390
Option 3 ID : 630680968387
Option 4 ID : 630680968389
Status : Answered
Chosen Option : 2

Q.14 नीचे एक वाक्य के कुछ भाग अव्यवस्थित क्रम में दिए गए हैं। सार्थक वाक्य बनाने के लिए भागों को सही क्रम में व्यवस्थित करें।

- 1) land area is threatened
- 2) seismic risks.
- 3) by moderate to severe
- 4) over 59% of India's

Ans 1. 4, 1, 3, 2
 2. 1, 3, 2, 4
 3. 2, 3, 1, 4
 4. 3, 2, 1, 4

Question ID : 630680249574
Option 1 ID : 630680968368
Option 2 ID : 630680968367
Option 3 ID : 630680968370
Option 4 ID : 630680968369
Status : Answered
Chosen Option : 1

Q.15 किसी निश्चित कूट भाषा में, 'SCAN' को '8' के रूप में कूटबद्ध किया जाता है और 'PASTE' को '10' के रूप में कूटबद्ध किया जाता है। उसी भाषा में 'PIN' को किस प्रकार कूटबद्ध किया जाएगा?

Ans 1. 9
 2. 3
 3. 12
 4. 6

Question ID : 630680249564
Option 1 ID : 630680968328
Option 2 ID : 630680968327
Option 3 ID : 630680968330
Option 4 ID : 630680968329
Status : Answered
Chosen Option : 2

Q.16 दिए गए पैटर्न का ध्यानपूर्वक अध्ययन करें और दिए गए विकल्पों में से उस संख्या का चयन करें जो प्रश्न-चिह्न (?) को प्रतिस्थापित कर सकती है।

8	66	2
4	20	4
5	28	?

Ans 1. 3
 2. 4
 3. 1
 4. 2

Question ID : 630680249578
Option 1 ID : 630680968383
Option 2 ID : 630680968384
Option 3 ID : 630680968385
Option 4 ID : 630680968386
Status : Answered
Chosen Option : 4

Q.17 एक निश्चित कूट भाषा में, 'BRINJAL' को 'RBINLJA' के रूप में लिखा जाता है। उसी कूट भाषा में 'TRANCES' को किस रूप में लिखा जाएगा?

- Ans 1. RTANSCE
 2. CRNATES
 3. ACRTESN
 4. ASENCRT

Question ID : 630680249575
Option 1 ID : 630680968372
Option 2 ID : 630680968371
Option 3 ID : 630680968373
Option 4 ID : 630680968374
Status : Answered
Chosen Option : 1

Q.18 गलत वर्तनी वाले शब्द की सही वर्तनी वाले विकल्प का चयन कीजिए।

The king ordered that the insolent carpenter should be put into prison.

- Ans 1. insolent
 2. orrdered
 3. prisen
 4. carpinter

Question ID : 630680249570
Option 1 ID : 630680968352
Option 2 ID : 630680968351
Option 3 ID : 630680968354
Option 4 ID : 630680968353
Status : Answered
Chosen Option : 1

Q.19 भाषाओं के अध्ययन को _____ कहा जाता है।

- Ans 1. फिलोलॉजी (philology)
 2. ऑर्निथोलॉजी(Ornithology)
 3. सेफोलॉजी (psephology)
 4. थियोलॉजी (theology)

Question ID : 630680249581
Option 1 ID : 630680968398
Option 2 ID : 630680968397
Option 3 ID : 630680968395
Option 4 ID : 630680968396
Status : Answered
Chosen Option : 1

Q.20 उस विकल्प का चयन कीजिए, जो तीसरे शब्द से ठीक उसी प्रकार संबंधित है, जिस प्रकार दूसरा शब्द, पहले शब्द से संबंधित है।

डॉक्टर : अस्पताल :: कलाकार : ?

- Ans
- 1. इंडस्ट्री
 - 2. थिएटर
 - 3. फिल्म
 - 4. अभिनेता

Question ID : 630680249566

Option 1 ID : 630680968338

Option 2 ID : 630680968335

Option 3 ID : 630680968336

Option 4 ID : 630680968337

Status : Answered

Chosen Option : 3

Section : Basic Computer Knowledge

Q.1 MS-Word में कीबोर्ड शॉर्टकट Ctrl+F का निम्न में से कौन सा प्रयोजन होता है?

- Ans
- 1. Font बॉक्स खोलना
 - 2. Paragraph डायलॉग बॉक्स खोलना
 - 3. खुले दस्तावेज़ को सेलेक्ट करना
 - 4. Find बॉक्स खोलना

Question ID : 630680249600

Option 1 ID : 630680968472

Option 2 ID : 630680968474

Option 3 ID : 630680968473

Option 4 ID : 630680968471

Status : Answered

Chosen Option : 4

Q.2 निम्न कंप्यूटरों को उनकी पीढ़ी के कालक्रम के अनुसार व्यवस्थित कीजिए।

- i) ENIAC
- ii) PDP-8
- iii) NCR 395
- iv) Apple II

- Ans
- 1. ii, i, iii, iv
 - 2. iv, iii, ii, i
 - 3. i, ii, iii, iv
 - 4. i, ii, iv, iii

Question ID : 630680249583

Option 1 ID : 630680968404

Option 2 ID : 630680968406



Option 3 ID : 630680968403

Option 4 ID : 630680968405

Status : Answered

Chosen Option : 3

Q.3 सूची -I (MS-Word 365 विकल्प आइकॉन) को सूची -II (अर्थ) से सुमेलित कीजिए, और सही विकल्प का चयन कीजिए।

सूची -I (MS Word 365 विकल्प आइकॉन)	सूची -II (अर्थ)
a) 	i) क्लीयर ऑल फार्मेटिंग (Clear all formatting)
b) 	ii) ओरिएंटेशन (Orientation)
c) 	iii) कॉलम (Columns)
d) 	iv) टेक्स्ट कलर हाइलाईटर (Text color highlighter)

- Ans 1. a-ii, b-iv, c-iii, d-i
 2. a-ii, b-iii, c-iv, d-i
 3. a-iv, b-iii, c-i, d-ii
 4. a-iii, b-ii, c-iv, d-i

Question ID : 630680249594

Option 1 ID : 630680968449

Option 2 ID : 630680968447

Option 3 ID : 630680968450

Option 4 ID : 630680968448

Status : Answered

Chosen Option : 2

Q.4 निम्न कथनों में से सही या गलत की पहचान कीजिए

- i) MS-Word 365, में, हैंगिंग इंडेंट (Hanging indent) एक पैराग्राफ की पहली पंक्ति को मार्जिन पर निर्धारित करके सेट करता है, और फिर पैराग्राफ की प्रत्येक अगली पंक्ति को इंडेंट करता है।
ii) MS-Word 365, प्रत्येक शब्द को लोअर केस में और बाकी को अपर केस के साथ शुरू करना, टॉगल केस (toggle case) का प्रयोजन होता है।
iii) MS-Word 365 में, 'Paragraph' समूह में 'Bullet' विकल्प के अंतर्गत पॉपअप डॉयलॉग बॉक्स 'Define New Bullet' में केवल दो बटन, 'Symbol' और 'Picture' होते हैं।

- Ans 1. i- सही, ii- सही, iii- सही
 2. i- सही, ii- सही, iii- गलत
 3. i- सही, ii- गलत, iii- गलत
 4. i- गलत, ii- सही, iii- सही

Question ID : 630680249595

Option 1 ID : 630680968451

Option 2 ID : 630680968453

Option 3 ID : 630680968454

Option 4 ID : 630680968452

Status : Answered

Chosen Option : 1

Q.5 Windows 10 सेटिंग्स में 'Searching Windows' के अंतर्गत निम्न में से कौन से विकल्प उपलब्ध होते हैं?

- i-Classic
- ii-Enhanced
- iii-Compact
- iv-Mosaic
- v-Compress
- vi-Normal

Ans 1. केवल ii, iii और iv

2. केवल i और ii

3. केवल i, ii और iii

4. केवल v और vi

Question ID : 630680249588

Option 1 ID : 630680968425

Option 2 ID : 630680968423

Option 3 ID : 630680968424

Option 4 ID : 630680968426

Status : Answered

Chosen Option : 1

Q.6 सूची -I (Excel फार्मूला/व्यंजक) को सूची -II (आउटपुट) से मिलान कीजिए और सही विकल्प का चयन कीजिए।

सूची -I (Excel फार्मूला/व्यंजक)	सूची -II (आउटपुट)
a) =REPLACE("1101010",6,2,"11")	i) 4
b) =(11+1010101)	ii) 1101011
c) = DEC2HEX(10)	iii) 1010112
d) =BIN2DEC(100)	iv) A

Ans 1. a-iv, b-iii, c-i, d-ii

2. a-ii, b-iv, c-iii, d-i

3. a-ii, b-iii, c-iv, d-i

4. a-iii, b-ii, c-iv, d-i

Question ID : 630680249598

Option 1 ID : 630680968466

Option 2 ID : 630680968465

Option 3 ID : 630680968463

Option 4 ID : 630680968464

Status : Answered

Chosen Option : 3

- Q.7 MS-Excel 365 में, वर्कशीट के नामकरण के लिए निम्न में से कौन सा/से विकल्प सही है/हैं?
- i) MS-Excel2010 में नई शीट जोड़ने के लिए कीबोर्ड शॉर्टकट Shift +F11 होता है।
 - ii) वर्कशीट के नाम में / \ ? * : [] में से कोई वर्ण हो सकता है।
 - iii) शीट (sheet) टैब पर दायं-क्लिक करके, Rename पर क्लिक करके और नया नाम टाइप करते हुए, वर्कशीट का नाम बदला जा सकता है।
 - iv) वर्कशीट (Worksheet) टैब पर दो बार क्लिक करके और नया नाम टाइप करके वर्कशीट का नाम बदला जा सकता है।

- Ans
- 1. केवल iii और iv
 - 2. केवल iv
 - 3. केवल i, iii और iv
 - 4. केवल ii और iii

Question ID : 630680249597
Option 1 ID : 630680968461
Option 2 ID : 630680968459
Option 3 ID : 630680968462
Option 4 ID : 630680968460
Status : Answered
Chosen Option : 3

- Q.8 निम्न कथनों में से सही या गलत की पहचान कीजिए
- i) 'Microsoft Outlook' एक ईमेल अनुप्रयोग सॉफ्टवेयर है।
 - ii) 'Junk Mail' अवांछित मेल होती है जिसमें मुख्य रूप से प्रचार सामग्री, कैटलॉग और दान के अनुरोध होते हैं।
 - iii) ई-मेल हेडर में निम्न भाग होते हैं: From, Date, To, Subject

- Ans
- 1. i- सही, ii- सही, iii- गलत
 - 2. i- सही, ii- सही, iii- सही
 - 3. i- गलत, ii- सही, iii- सही
 - 4. i- सही, ii- गलत, iii- सही

Question ID : 630680249592
Option 1 ID : 630680968441
Option 2 ID : 630680968439
Option 3 ID : 630680968440
Option 4 ID : 630680968442
Status : Answered
Chosen Option : 1

- Q.9 निम्न कथनों में से सही या गलत की पहचान कीजिए
- i) ASCII कोड का अर्थ अमेरिकन स्टैंडर्ड कोड फॉर इन्फार्मेशन इंटरचेंज (American Standard Code for Information Interchange) होता है।
 - ii) PAN शब्द का अर्थ प्राइवेट एरिया नेटवर्क (Private Area Network) होता है।
 - iii) LED शब्द लाइट एमिटिंग डिस्प्ले (Light Emitting Display) होता है।

- Ans
- 1. i- सही, ii- गलत, iii- सही
 - 2. i- सही, ii- सही, iii- सही
 - 3. i- सही, ii- गलत, iii- गलत
 - 4. i- गलत, ii- सही, iii- सही

Question ID : 630680249602
Option 1 ID : 630680968482
Option 2 ID : 630680968479
Option 3 ID : 630680968481
Option 4 ID : 630680968480
Status : Answered
Chosen Option : 3

Q.10 सूची -I (संक्षिप्त शब्द) को सूची -II (पूरा नाम) के साथ सुमेलित कीजिए और सही विकल्प का चयन कीजिए।

सूची -I (संक्षिप्त शब्द)	सूची -II (पूरा नाम)
a) CD-ROM	i) Printed Circuit Board (प्रिंटेड सर्किट बोर्ड)
b) EEPROM	ii) Compact Disk Read only Memory (कम्पैक्ट डिस्क रीड ओनली मेमोरी)
c) USB	iii) Electrically Erasable and Programmable Read only Memory (इलेक्ट्रिकली इरेजेबल एंड प्रोग्रामेबल रीड ओनली मेमोरी)
d) PCB	iv) Universal Serial Bus (यूनिवर्सल सीरीज बस)

- Ans
- 1. a-iii, b-ii, c-iv, d-i
 - 2. a-ii, b-iv, c-iii, d-i
 - 3. a-iv, b-iii, c-i, d-ii
 - 4. a-ii, b-iii, c-iv, d-i

Question ID : 630680249601
Option 1 ID : 630680968476
Option 2 ID : 630680968477
Option 3 ID : 630680968478
Option 4 ID : 630680968475
Status : Answered
Chosen Option : 4

Q.11 निम्न कथनों में से सही या गलत की पहचान कीजिए

- i) कॉमन गेटवे इंटरफेस (CGI) स्क्रिप्ट एक वेब सर्वर और एक CGI प्रोग्राम के बीच सूचना का स्थानांतरण करने के लिए एक विनिर्देश है, जो डेटा प्राप्त करने और वापस करने के लिए डिज़ाइन किया जाता है।
- ii) HTTP, इंटरनेट प्रोग्रामिंग की एक भाषा है।
- iii) वेब बॉट (Web Bot) शब्द इंटरनेट पर उपयोग किए जाने वाले प्रोग्राम/एप्लेट्स (मैक्रो और इंटेलिजेंट एजेंट) के लिए लागू होता है; ऐसे बॉट (bots) पुनरावर्ती कार्य करते हैं, जैसे कि कई समाचार समूहों के लिए संदेश पोस्ट करना या सूचनाओं की खोज करना।

- Ans
- 1. i- सही, ii- सही, iii- सही
 - 2. i- सही, ii- गलत, iii- सही
 - 3. i- सही, ii- सही, iii- गलत
 - 4. i- गलत, ii- सही, iii- सही

Question ID : 630680249590
Option 1 ID : 630680968431
Option 2 ID : 630680968434
Option 3 ID : 630680968433
Option 4 ID : 630680968432
Status : Answered
Chosen Option : 3

Q.12 निम्न कथनों में से सही या गलत की पहचान कीजिए

- i) असेम्बली भाषा, एक निम्नस्तरीय प्रोग्रामिंग भाषा है।
ii) इंटरप्रेटर एक प्रोग्राम होता है जो प्रोग्रामिंग भाषा में प्रत्येक कथन को मशीन कोड में अनुवादित करता है और इसका संचालन करता है।
iii) असेम्बलर का आउटपुट, बाइनरी कोड में होता है।

- Ans 1. i- सही, ii- सही, iii- गलत
 2. i- सही, ii- सही, iii- सही
 3. i- गलत, ii- सही, iii- सही
 4. i- सही, ii- गलत, iii- सही

Question ID : 630680249584

Option 1 ID : 630680968409

Option 2 ID : 630680968407

Option 3 ID : 630680968408

Option 4 ID : 630680968410

Status : Answered

Chosen Option : 1

Q.13 निम्न कथनों में से सही या गलत की पहचान कीजिए

- i) MS-Word 365 Clipboard (एमएस-वर्ड 365 क्लिपबोर्ड) उन टेक्स्ट और ग्राफिक्स को स्टोर करता है जिसे आप कहीं से कॉपी या कट करते हैं, और यह आपको स्टोर किए गए आइटम को किसी अन्य Office फाइल में पेस्ट करने की सुविधा देता है।
ii) MS-Word 365 में, Watermarks का उपयोग करके आपके दस्तावेज़ के पृष्ठों में एक लोगो, एक चित्र या अन्य पहचान चिह्न जोड़ा जाता है, सामग्री पर टेक्स्ट या छवियों को प्रविष्ट करने से यह आपकी सामग्री की सुरक्षा करता है, और आपके प्रोजेक्ट की स्थिति या सुरक्षा संबंधी अपेक्षाओं को परिभाषित करता है।

- Ans 1. i- गलत, ii- सही
 2. i- सही, ii- गलत
 3. i- सही, ii- सही
 4. i- गलत, ii- गलत

Question ID : 630680249593

Option 1 ID : 630680968445

Option 2 ID : 630680968444

Option 3 ID : 630680968443

Option 4 ID : 630680968446

Status : Answered

Chosen Option : 2

Q.14 सूची-I (कंपाइलर डिजाइन के चरण) को सूची-II (विवरण) के साथ सुमेलित कीजिए और सही उत्तर का चयन कीजिए।

सूची-I (कंपाइलर डिजाइन के चरण)	सूची-II (विवरण)
a) ऑप्टिमाइजेशन	i) यह फेज़, सोर्स कोड का एक मध्यवर्ती निरूपण उत्पन्न करता है जिसे मशीन कोड में सरलता से अनुवादित किया जा सकता है।
b) सिंटैक्स विश्लेषण	ii) यह फेज़, निर्मित मशीन कोड का कार्यप्रदर्शन बेहतर बनाने के लिए मध्यवर्ती कोड में ऑप्टिमाइजेशन की तकनीकों को लागू करता है।
c) सीमैटिक विश्लेषण	iii) इस चरण में, कंपाइलर सोर्स कोड के सिंटैक्स की जांच करके यह सुनिश्चित करता है कि यह प्रोग्रामिंग की भाषा के नियमों के अनुरूप है।
d) मध्यवर्ती कोड निर्मित करना	iv) इस चरण में, कंपाइलर सोर्स कोड के अर्थ की जांच करता है ताकि यह सुनिश्चित हो सके कि यह सार्थक है।

- Ans
- 1. a-iv, b-iii, c-i, d-ii
 - 2. a-ii, b-iv, c-iii, d-i
 - 3. a-iii, b-ii, c-iv, d-i
 - 4. a-ii, b-iii, c-iv, d-i

Question ID : 630680249585

Option 1 ID : 630680968414

Option 2 ID : 630680968413

Option 3 ID : 630680968412

Option 4 ID : 630680968411

Status : Answered

Chosen Option : 2

Q.15 निम्न कथनों में से सही या गलत की पहचान कीजिए

- i) यदि सेल A15, A16 में मान क्रमशः 4, 3 हैं, और सेल A17 में फार्मूला $=A15^A16$ लिखा गया है, तो A17 में सेल मान 64 होगा।
- ii) MS-Excel 365 में, NETWORKDAYS() फंक्शन, दो तिथियों के बीच पूरे कार्यदिवसों की संख्या पुनःप्रदर्शित करता है।
- iii) MS-Excel 365 में, रडार चार्ट (radar chart) को स्पाइडर चार्ट (spider chart) या वेब चार्ट (web chart) भी कहा जाता है।

- Ans
- 1. i- सही, ii- सही, iii- गलत
 - 2. i- सही, ii- सही, iii- सही
 - 3. i- गलत, ii- सही, iii- सही
 - 4. i- सही, ii- गलत, iii- सही

Question ID : 630680249599

Option 1 ID : 630680968469

Option 2 ID : 630680968467


Option 3 ID : 630680968468

Option 4 ID : 630680968470

Status : Answered

Chosen Option : 2

Q.16 निम्न में से गलत कथन की पहचान कीजिए।

- Ans 1. वर्तनी और व्याकरण (spelling and grammar) टूल, कैपिटलाइज़ेशन (capitalisation) की समस्याओं वाले शब्दों की पहचान करता है।
2. MS-Word 365 में 'Review' tab टैब में  आइकॉन का उपयोग शब्द संख्या (Word Count) के लिए किया जाता है।
3. अपने MS-Word 365 दस्तावेज़ में वर्तनी और व्याकरण (spelling and grammar) की जांच शुरू करने के लिए, केवल F7 दबाएं।
4. वर्तनी और व्याकरण (spelling and grammar) समूह में तीन विकल्प होते हैं: a) Spelling b) Grammar c) Spelling and Grammar.

Question ID : 630680249596
Option 1 ID : 630680968455
Option 2 ID : 630680968458
Option 3 ID : 630680968456
Option 4 ID : 630680968457
Status : Answered
Chosen Option : 1

Q.17 निम्न कथनों में से सही या गलत की पहचान कीजिए

- i) Windows 10 में, 'Remote Desktop' से आपको रिमोट डेस्क टॉप क्लाइट का उपयोग करके रिमोट डिवाइस से कंप्यूटर को कनेक्ट करने और नियंत्रित करने की सुविधा मिलती है।
- ii) Windows 10 में, ऊर्जा और बैटरी का जीवनकाल बचाने के लिए 'Power & Sleep' विकल्प का उपयोग किया जाता है।
- iii) जब आप Windows में कुछ कॉपी या कट करते हैं, तो यह आपके द्वारा पेस्ट किए जाने के लिए क्लिपबोर्ड पर कॉपी हो जाता है।

- Ans 1. i- सही, ii- सही, iii- गलत
2. i- सही, ii- गलत, iii- सही
3. i- गलत, ii- सही, iii- सही
4. i- सही, ii- सही, iii- सही

Question ID : 630680249587
Option 1 ID : 630680968421
Option 2 ID : 630680968422
Option 3 ID : 630680968420
Option 4 ID : 630680968419
Status : Answered
Chosen Option : 3

Q.18 MS-Word में 'फाइंड एंड रिप्लेस' डायलॉग विंडो खोलने के लिए निम्नलिखित में से किस कीबोर्ड शॉर्टकट का उपयोग किया जाता है?

- Ans 1. Ctrl + H
2. Shift + F
3. Ctrl + Alt + F
4. Alt + H

Question ID : 630680249586
Option 1 ID : 630680968418
Option 2 ID : 630680968417
Option 3 ID : 630680968416
Option 4 ID : 630680968415
Status : Answered
Chosen Option : 3

Q.19 सूची-I (पदों) को सूची-II (विवरण/उदाहरण) के साथ सुमेलित कीजिए और सही विकल्प का चयन कीजिए।

सूची -I (पद)	सूची-II (विवरण/उदाहरण)
a) ईमेल स्पैमिंग अटैक (Email spamming attacks)	i) Google द्वारा प्रदान की जाने वाली निःशुल्क ईमेल सेवा।
b) ईमेल प्रोटोकॉल (Email protocol)	ii) बड़ी संख्या में इंटरनेट उपयोगकर्ताओं को अंधाधुंध ढंग से एक ही संदेश भेजना।
c) ईमेल पता (Email address)	पोस्टऑफिस प्रोटोकॉल (POP)
d) जीमेल (Gmail)	iv) ana.pla1010@send.com

- Ans 1. a-ii, b-iii, c-iv, d-i
 2. a-iii, b-ii, c-iv, d-i
 3. a-ii, b-iv, c-iii, d-i
 4. a-ii, b-iii, c-i, d-iv

Question ID : 630680249591
Option 1 ID : 630680968435
Option 2 ID : 630680968436
Option 3 ID : 630680968437
Option 4 ID : 630680968438
Status : Answered
Chosen Option : 3

Q.20 ISDN शब्द में अक्षर 'D' का क्या अर्थ होता है?

- Ans 1. डिजिटल (Digital)
 2. डेटा (Data)
 3. डिटेक्ट (Detect)
 4. डायल (Dial)

Question ID : 630680249589
Option 1 ID : 630680968428
Option 2 ID : 630680968427
Option 3 ID : 630680968429
Option 4 ID : 630680968430
Status : Answered
Chosen Option : 2